



République algérienne démocratique et populaire

وزارة التعليم العالي و البحث العلمي

Ministère de l'enseignement supérieur et de la recherche scientifique

المركز الجامعي لعين تموشنت

Centre Universitaire Belhadj Bouchaib d'Ain-Temouchent

Institut des Sciences

Département des sciences de la matière

Domaine : SCIENCES DE LA MATIERE

**POLYCOPIE**

**MECANIQUE ANALYTIQUE: COURS ET EXERCICES**

Filière : Physique

Module : Mécanique analytique

Niveau : 2ème Année Licence (S3)

*Année universitaire 2017/2018*

---

"بِسْمِ اللَّهِ الرَّحْمَنِ الرَّحِيمِ"

**MECANIQUE ANALYTIQUE**  
**COURS ET EXERCICES**

### NOTATIONS

- $\vec{r}$ : Vecteur position
- $\vec{V}$ : Vecteur vitesse
- $\vec{a}$ : Vecteur accélération
- $q_i$ : Coordonnée généralisée
- $T$  ou  $E_c$ : Energie cinétique
- $V$  ou  $E_p$ : Energie potentiel
- $E$ : Energie mécanique
- $W$ : Travail
- $L$ : Moment cinétique
- $P_i$ : Le moment ou quantité de mouvement  $P=mv$
- $m$ : La masse
- $M$ : La masse totale
- $\vec{R}$ : position au centre de masse
- $\vec{F}$ : la force
- $L$ : Lagrangien
- $H$ : L'Hamiltonien
- $Q_i$ : Coordonnées d'une transformation canonique.
- $P_i$ : Moment d'une transformation canonique.
- $L'$ : Lagrangien d'une transformation canonique.
- $H'$ : Hamiltonien d'une transformation canonique.
- $\theta, \varphi, \Psi$ : angle d'Euler
- $r, \theta, \varphi, \dot{r}, \dot{\theta}, \dot{\varphi}$ : Coordonnées sphérique
- $\Omega$ : Vecteur de rotation
- $\dot{q}$ : Dérivé d'une position
- $\dot{p}$ : Dérivé d'un moment
- $\delta$ : delta de Kronecker
- $\delta$ : delta de variation
- $I$ : Moment d'inertie
- $\alpha$ : trajectoire ou constante d'intégration

# TABLE DE MATIÈRE

## TABLE DES MATIERES

<b>Notation</b>		
<b>Tables des matières</b>		
<b>Avant-propos</b>		
<b>Chapitre 1 : Rappels de mécanique classique</b>		<b>page</b>
<b>1.1.</b>	Cinématique d'une particule.	<b>6</b>
<b>1.2.</b>	Dynamique d'une particule.	<b>7</b>
<b>1.3.</b>	Travail et énergie.	<b>8</b>
<b>1.4.</b>	Systèmes à N particules et forces extérieures.	<b>10</b>
<b>1.5.</b>	Degrés de liberté.	<b>11</b>
Exercices		<b>12</b>
<b>Chapitre 2 : Formalisme de Lagrange</b>		
<b>2.1</b>	Coordonnées généralisées.	<b>16</b>
<b>2.2</b>	Variation fonctionnelle.	<b>17</b>
<b>2.3</b>	Le Lagrangien.	<b>21</b>
<b>2.4</b>	Coordonnées curvilignes.	<b>22</b>
<b>2.5</b>	Coordonnées curvilignes	<b>25</b>
<b>2.6</b>	Principe D'Alembert	<b>26</b>
<b>2.7</b>	Applications : Particule dans un champ gravitationnel, particule liée à un ressort, problème à deux corps, le potentiel central.	<b>27</b>
Exercices		<b>34</b>
<b>Chapitre 3 : Formalisme de Hamilton</b>		
<b>3.1</b>	Transformation de Legendre	<b>38</b>
<b>3.2</b>	L'Hamiltonien.	<b>39</b>
<b>3.3</b>	Crochets de Poisson et Variables canoniques	<b>41</b>
<b>3.4</b>	Moments généralisés.	<b>44</b>
<b>3.5</b>	Transformations canoniques.	<b>44</b>
<b>3.6</b>	La méthode de Hamilton-Jacobi.	<b>47</b>
<b>3.7</b>	L'espace des phases.	<b>51</b>
<b>3.8</b>	Variables angle-action et fonction génératrice.	<b>51</b>
<b>3.9</b>	Systèmes intégrables	<b>52</b>
Exercices		<b>52</b>
<b>Chapitre 4 : Mouvement d'un solide indéformable</b>		
<b>4</b>	Introduction	<b>55</b>
<b>4.1</b>	Degrés de liberté d'un solide	<b>55</b>
<b>4.2</b>	Angle de L'Euler	<b>55</b>
<b>4.3</b>	Axes principaux, Moment cinétique et tenseur d'inertie.	<b>56</b>
<b>4.4</b>	Energie cinétique	<b>58</b>
<b>4.5</b>	Toupie symétrique.	<b>58</b>
<b>4.6</b>	équations d'Euler.	<b>59</b>
Exercices		<b>60</b>
<b>Types de document et références bibliographiques</b>		<b>63</b>

# AVANT-PROPOS

Ce polycopié de **la mécanique analytique** du socle commun du domaine **sciences de la matière** contient l'essentiel du matériel couvert dans le cours. Elle s'adresse aux étudiants de troisième semestre licence nouveau régime (**LMD**). Le contenu de ce polycopié regroupe le programme enseigné dans le département des sciences de la matière (Filière physique) de **C.U.B.B.A.T.** il est rédigé sous forme de cours détaillés, avec des applications résolus et des exercices supplémentaires non résolus.

La “ **mécanique analytique** ” ou “ **mécanique classique** ” est une théorie physique fondamentale qui permet de décrire le mouvement des “ corps ” lorsqu'ils interagissent entre eux (particules, corps solides, ondes électromagnétiques, fluides, milieux continus), valable de l'échelle des molécules à l'échelle des planètes. Cette théorie a été développée principalement par:

1. **Newton** (1684): formulation en terme de forces.
2. **Lagrange** (1787) et **Hamilton** (1827): formulation variationnelle: le mouvement effectué est celui qui optimise une certaine “ action ” (comme le chemin le plus court entre deux points). C'est une formulation aussi très géométrique qui permet de comprendre et résoudre des problèmes plus compliqués.
3. **Maxwell** (1865): dynamique des ondes électromagnétiques et des corps chargés en interaction. Les équations de Maxwell s'expriment aussi avec la formulation de Lagrange et Hamilton.
4. **Einstein** (1905, 1917): “ théorie relativiste ”: modification de la théorie précédente, en “ unifiant “ l'espace et le temps, et en fournissant une expression géométrique de la gravitation.

Dans ce cours on étudiera essentiellement les formulations (chapitre 2) et (chapitre 3) de Lagrange et Hamilton. On apprendra des techniques pour résoudre des problèmes précis. On fera des rappels sur (1).

# *Chapitre I.*

## *Rappels de mécanique classique.*

---

### 1.1. Cinématique d'une particule :

Selon la nature de la trajectoire d'une particule, sa position sera repérée par l'un des systèmes de coordonnées : **cartésiennes, cylindriques ou sphériques**. Soient  $R_0 (O, x_0 y_0 z_0)$  un repère direct orthonormé de base  $(i, j, k)$  et  $M$  la particule à repérer.

- L'objet de la cinématique est de décrire les mouvements d'une particule sans tenir compte des causes qui les produisent.

- La description du mouvement d'une particule met en œuvre trois vecteurs :

- le vecteur position :

$$\vec{x}_i = x_i(t), \quad i = 1, 2, 3. \quad (1.1)$$

- le vecteur vitesse :

$$\vec{V}(t) = \frac{d}{dt} x_i(t) \equiv \dot{x}_i(t) \quad (1.2)$$

- le vecteur accélération :

$$\vec{a} = \frac{d\vec{V}}{dt} = \frac{d^2 x_i}{dt^2} \equiv \dot{\vec{V}} \equiv \ddot{x}_i(t) \quad (1.3)$$

- Le corps mobile sera appelé point matériel. On parle de point matériel lorsque les dimensions du mobile sont considérées négligeables dans les conditions du problème.

- En mécanique classique, la vitesse  $V$  du point  $M$  est négligeable par rapport à la vitesse de la lumière dans le vide.

#### **Remarque 1:**

Dans le cas d'un mouvement circulaire l'accélération à deux composantes  $\vec{a}_t$  et  $\vec{a}_n$

$$\vec{a}_n = \frac{v^2}{r} \vec{U}_\perp \quad (r: \text{rayon})$$

$$\vec{a}_t = \frac{dv}{dt} \vec{U}_\parallel$$

$$\vec{a} = \frac{v^2}{r} \vec{U}_\perp + \frac{dv}{dt} \vec{U}_\parallel \quad (1.4)$$

- Plusieurs particules ponctuelles : On représente la position de N particules dans notre espace par N triplets de nombres (total 3N)

$$\mathbf{r}_\alpha = (x_{\alpha 1}, x_{\alpha 2}, x_{\alpha 3}) ; \alpha = 1, 2, \dots, N. \quad (1.5)$$

Position de N points matériels données par n coordonnées généralisées.

On note ( $x_i$  ou  $q_i$ )

$$\begin{aligned} r_1 &= r_1(x_1, x_2, x_3, \dots, x_n) = r_1(q_1, q_2, q_3, \dots, q_n) \\ r_2 &= r_2(x_1, x_2, x_3, \dots, x_n) = r_2(q_1, q_2, q_3, \dots, q_n) \\ &\vdots \\ r_N &= r_N(x_1, x_2, x_3, \dots, x_n) = r_N(q_1, q_2, q_3, \dots, q_n) \end{aligned} \quad (1.6)$$

## 1.2. Dynamique d'une particule :

La dynamique est l'étude des mouvements en fonction des causes qui les produisent. Ces causes sont les interactions entre particules et sont représentées par les forces.

### ➤ Loi fondamentale de la dynamique :

- **1<sup>er</sup> loi de Newton** : principe de l'inertie galiléen

Si le corps matériel n'est soumis à aucune force  $\vec{F}^{\text{ext}} = 0$  :

-soit en mouvement rectiligne uniforme.

-soit au repos, s'il était initialement au repos.

- **2<sup>ème</sup> loi de Newton** :

La dérivée de la quantité de mouvement s'appelle force :

$$\vec{F}^{\text{ext}} = \frac{d\vec{p}}{dt} = m \frac{d\vec{mv}}{dt} \Rightarrow \vec{F}^{\text{ext}} = m\vec{a} \quad (1.7)$$



- **3<sup>ème</sup> loi de Newton** : principe de l'action et de réaction

Lorsque deux particules sont en influence mutuelle, la force appliquée par la première particule sur la deuxième est égale et de signe contraire à la force appliquée par la deuxième particule sur la première.

$$\begin{aligned}\vec{F}_{1-2} &= -\vec{F}_{2-1} \\ \vec{F}_{i,j} &= -\vec{F}_{j,i}\end{aligned}\tag{1.8}$$

- **Moment cinétique d'une particule** : En mécanique classique, le **moment cinétique** ou **moment angulaire** (par anglicisme) d'un point matériel M par rapport à un point O est le moment de la quantité de mouvement par rapport au point O, c'est-à-dire le produit vectoriel :

$$\vec{L}_O = \vec{OM} \wedge \vec{p}\tag{1.9}$$

$$\frac{d\vec{L}}{dt} = m\dot{r} \wedge \dot{r} + mr \wedge \ddot{r} = r \wedge m\ddot{r} = r \wedge \vec{F}^{ext}\tag{1.10}$$

$$r \wedge \vec{F}^{ext} = 0 \Rightarrow \vec{L} \text{ est constante}$$

**Remarque 2 :** Si l'on repère les particules par un indice i, on définit :

$m_i$  = masse de la particule i.

$\vec{OM}_i = \vec{r}_i$  : Position de la particule i.

$\vec{v}_i$  : vitesse de la particule i.

$\vec{P}_i = m\vec{v}_i$  : impulsion de la particule i.

$\vec{a}_i$  : Accélération de la particule i.

$\frac{d\vec{P}_i}{dt} = \vec{F}_i$  (i=1, 2, 3, ..... N (particules)).

$\vec{F}_i(\vec{r}_i, \dots, \vec{r}_N, \vec{r}_1, \dots, \vec{r}_1, t) = m_i \vec{a}_i$

### 1.3. Travail et énergie :

Le travail de la force  $\vec{F}^{ext}$  le long d'une trajectoire allant d'un point 1 à un point 2 est défini par :

$$W_{12} = \int_1^2 \vec{F}^{ext} \cdot \vec{ds} \quad (1.11)$$

Où  $\vec{s}$  est l'abscisse curviligne le long de la trajectoire.

Puisque :

$$\vec{F}^{ext} = m \frac{d\vec{v}}{dt} \text{ et } \vec{ds} = v dt, \text{ on a}$$

$$W_{12} = \int_1^2 m \frac{d\vec{v}}{dt} \cdot v dt \quad (1.12)$$

$$W_{12} = \frac{m}{2} (v_2^2 - v_1^2)$$

Mais  $\frac{mv^2}{2} \equiv T$  énergie cinétique.

$$\text{Donc : } W_{12} = T_2 - T_1 \quad (1.13)$$

**Cas particulier :** Systèmes conservatifs

Un système est dit conservatif si le travail entre deux points ne dépend pas du chemin suivi.

**Conséquence :**

$$W = \oint_C \vec{F} \cdot \vec{ds} \quad (1.14)$$

En effet, décomposons le chemin C en deux chemins C' et C'' tels que  $C = C' \cup C''$ .

L'intégrale se fait le long d'une trajectoire (le chemin est fermé).

$$\oint_C \vec{F} \cdot \vec{ds} = \oint_{1C'} \vec{F} \cdot \vec{ds} + \oint_{1C''} \vec{F} \cdot \vec{ds} = 0 \quad (1.15)$$

On peut écrire F comme le gradient d'une fonction scalaire :

$F = -\nabla V(r)$   $V(r)$  : l'énergie potentiel

$$\oint_1^2 \vec{F} \cdot \vec{ds} = \int_1^2 -\nabla V(r) \cdot d\vec{s} = V_1 - V_2 \quad (1.16)$$

$$V_1 - V_2 = T_2 - T_1 \Rightarrow V_1 + T_1 = V_2 + T_2 \quad (1.17)$$

**Remarque 3 :**

## CHAPITRE I : Rappels de mécanique classique

---

Dans certain cas l'intégrale ne dépend pas de la trajectoire mais uniquement du point initial et final, on dit que la force est conservatrice.

### 1.4. Systèmes à N particules et forces extérieures :

Considérons un système de N particules dont les interactions mutuelles sont régies par la troisième loi de Newton (principe de l'action et de la réaction).

$$m_i \ddot{\vec{r}}_i = \frac{d\vec{p}_i}{dt} = \vec{F}_i^{ext} + \sum_{j \neq i} \vec{F}_{ji}$$

$\vec{F}_i^{ext}$  : La force externe

$\vec{F}_{ji}$  : La force due à l'interaction de jème particules sur ième,  $\vec{F}_{jj} = 0$ ,  $\vec{F}_{ij} = -\vec{F}_{ji}$

Il est utile d'introduire les définitions suivantes :

Centre de masse :

$$\vec{R} = \frac{\sum_i m_i \vec{r}_i}{\sum_i m_i} = \frac{\sum_i m_i \vec{r}_i}{M} \quad (1.18)$$

Impulsion totale :

$$\vec{P} = \sum_i \vec{P}_i = \sum_i m_i \dot{\vec{r}}_i = M \dot{\vec{R}} \quad (1.19)$$

M : masse totale

On obtient donc :

$$\frac{d\vec{p}_i}{dt} = \frac{dM \dot{\vec{R}}}{dt} = M \frac{d^2 \vec{R}}{dt^2} = \sum_i \vec{F}_i^{ext} \quad (1.20)$$

**Théorème :** le centre de masse se comporte comme un point matériel de masse totale M soumis à une force externe égale à la somme des forces extérieures s'exerçant sur chacune des particules.

Si :  $\vec{F} = 0 \Rightarrow \frac{d\vec{p}_i}{dt} = 0 \Rightarrow \vec{P}_i$  constante (système isolé ou corollaire)

Introduisons les coordonnées barycentriques par rapport au centre de masse.

$$\vec{r}_i = \vec{R} + \vec{r}'_i$$

$$\vec{v}_i = \vec{V} + \vec{v}'_i$$

$$\vec{V} = \dot{\vec{R}}$$

**Repère barycentrique :**

Définition : repère lié au centre de masse G animé d'un mouvement de translation par rapport à un repère galiléen.

**Moment cinétique :**

$$\vec{L} = \sum_i \vec{r}_i \wedge \vec{p}_i = \sum_i (\vec{R}_i + \vec{r}'_i) \wedge m_i (\vec{V} + \vec{v}'_i)$$

$$\vec{L} = \sum_i (\vec{R}_i \wedge m_i \vec{V} + \vec{r}'_i \wedge m_i \vec{V} + \vec{R}_i \wedge m_i \vec{v}'_i + \vec{r}'_i \wedge m_i \vec{v}'_i)$$

- $\sum_i \vec{R}_i \wedge m_i \vec{V} = M \vec{R}_i \wedge \vec{V}$
- $\sum_i m_i \vec{r}'_i = 0$
- $\sum_i m_i \vec{v}'_i = 0$

$$\vec{L} = M \vec{R}_i \wedge \vec{V} + \sum_i \vec{r}'_i \wedge \vec{P}'_i \quad (1.21)$$

**Première théorème de Koning :**

Le moment cinétique par rapport au point O est égal à la somme du moment cinétique du centre de masse par rapport au point O et des moments cinétiques des particules par rapport au centre de masse.

Energie : l'énergie cinétique totale est donnée par :

$$\mathbf{T} = \frac{1}{2} m v^2 + \frac{1}{2} \sum_i m_i \vec{v}'_i{}^2 \quad (1.22)$$

$E_C = \frac{1}{2} m v^2$  : énergie cinétique de centre de masse.

$E_C = \frac{1}{2} \sum_i m_i \vec{v}'_i{}^2$  : énergie cinétique des particules.

**1.5.Degrés de liberté :**

Le degré de liberté est le nombre de coordonnées généralisées indépendantes, nécessaires pour configurer tous les éléments du système à tout instant :

Où, le nombre de coordonnées généralisées liées, pour configurer tous les éléments du système à tout instant moins (-) le nombre de relations reliant ces coordonnées entre elles :

$$d = N - r$$

$d$ : Degré de liberté ;

$N$  : Nombre de coordonnées généralisées

$r$  : Nombre de relations reliant ces coordonnées entre elles

---

### Exercices :

#### **Exercice 1 : Système solide-ressort horizontal sans frottement**

Soit un point M de masse  $m$  accroché à l'extrémité d'un ressort horizontal sans masse.

Le point M se déplace sans frottement sur le plan horizontal. A  $t = 0$ , on écarte ce point de sa position d'équilibre d'une grandeur  $x_m$  puis on le lâche sans vitesse initiale.

Quel est son mouvement, quels sont ses caractéristiques ?

#### **Exercice 2 : Système solide-ressort vertical sans frottement**

Soit un point M de masse  $m$  accroché à l'extrémité d'un ressort vertical sans masse. A  $t = 0$ , on écarte ce point de sa position d'équilibre d'une grandeur  $x_m$  puis on le lâche sans vitesse initiale. 1. Quel est son mouvement, quels sont ses caractéristiques ?

Expression de l'équation harmonique à partir d'une étude énergétique

#### **Exercice 3 : Le système est conservatif**

Donner l'expression de l'énergie cinétique du système {masse}.

L'expression de l'énergie potentielle élastique étant  $E_p = 1/2 kx^2$ , en déduire une expression de l'énergie mécanique. Retrouver l'équation harmonique ?

#### **Exercice 4 : Système solide-ressort avec frottements fluides.**

On reprend l'exemple des oscillateurs précédents : système masse-ressort horizontal ou Vertical, ou balançoire. Mais cette fois-ci, des frottements fluides viennent freiner le point M dans son mouvement.

Comment ce mouvement est-il modifié ? Quelles sont ces nouvelles caractéristiques ?

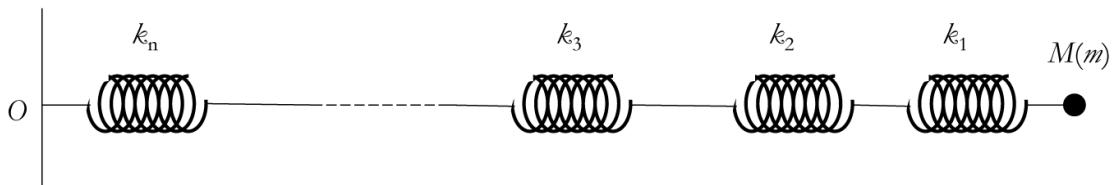
## CHAPITRE I : Rappels de mécanique classique

---

Comment établir l'équation harmonique dans le cas de  $n$  ressorts

### Exercice 5 : Le ressort est comprimé

Un objet ponctuel  $M$  de masse  $m$  est accroché à  $n$  ressorts horizontaux de longueur à vide  $l_0$ , ayant des raideurs respectives  $k_1, k_2, k_3, \dots, k_n$ . On néglige les frottements.



**Figure.1.**

Le ressort 1 est fixé à une de ses extrémités et l'objet ponctuel est accroché au bout du premier ressort, telle que le précise la figure ci-dessous.

Déterminer l'expression de la force de rappel qu'exerce cet ensemble de ressorts horizontaux de masses négligeables sur  $M$  et en déduire l'équation harmonique en fonction des paramètres des ressorts. Que vaut alors la pulsation ?

### Exercice 6: Pendule simple

Un enfant, assimilé à un point matériel  $M$  de masse  $m$ , est assis sur une balançoire. Les cordes de la balançoire sont inextensibles, de longueur  $l$  et n'ont pas de masse. Un adulte écarte d'un petit angle l'enfant de sa position d'équilibre puis la lâche sans vitesse initiale. On néglige tous les frottements.

Quel est le mouvement de l'enfant ? Les caractéristiques de celui-ci ?

### **Exercice 7 :**

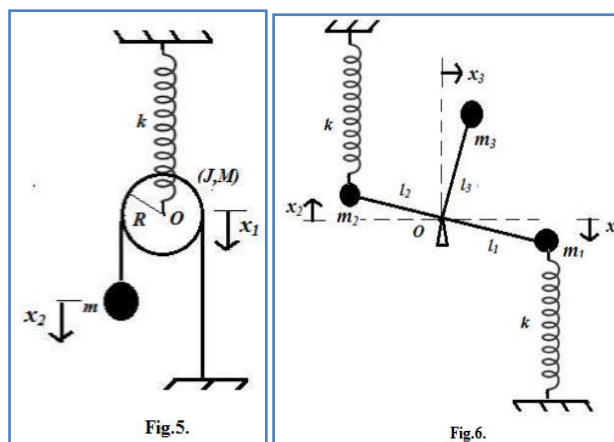
Soient les systèmes mécaniques suivants :

Une poulie de masse  $M$ , de moment d'inertie  $J$ , et de rayon  $R$ , suspendue au point  $O$  par un ressort de raideur  $k$ . Le fil inextensible glisse sur la poulie sans frottement relié par une masse  $m$ , Figure 2.

## CHAPITRE I : Rappels de mécanique classique

---

Un système de bras rigidement liés et tournant dans le plan de la figure autour du point fixe  $O$ . A l'équilibre le bras  $l_3$  est vertical.



**Figure .2.**

Dans le cas des oscillations linéaires, déterminer pour chaque système :

Le nombre de degré de liberté ?

## *Chapitre II.*

---

### *Formalisme de Lagrange*

---



## Chapitre 2 : Formalisme de Lagrange

---

Dans la mécanique analytique, Lagrange propose de considérer les problèmes de mécanique de façon suivante, au lieu de déterminer la position  $q(t)$  et  $\dot{q}(t)$ , il pose la question quelle est la trajectoire effectivement suivie par la particule, partant de  $P_1$  à l'instant  $t_1$  elle arrive en  $P_2$  à  $t_2$  ?

### 2.1. Coordonnées généralisées:

#### a. Principe de base :

Les coordonnées généralisées sont l'ensemble de variables réelles **indépendantes** ou **liée** permettant de décrire et configurer tous les éléments du système à tout instant  $t$ .

#### Par exemples :

- 1- un point matériel libre dans l'espace peut être déterminé par 3 coordonnées généralisées  $(x, y, z)$ ;
- 2- un corps solide peut être déterminé par 6 coordonnées généralisées :
  - 03 coordonnées relatives au centre de gravité.
  - 03 coordonnées liées aux angles d'Euler  $(\varphi, \psi, \theta)$ .
- 3- Les coordonnées généralisées d'un système de  $P$  points matériels et  $Q$  corps solides sont défini par :  $N = 3P + 6Q$  coordonnées.

#### b. Principe de moindre action :

Une trajectoire  $\alpha$  est caractérisé par une quantité, appelée action d'un mouvement se déroulant entre les instants  $t_1$  et  $t_2$  : telle que

$$S(\alpha) = \int_{t_1}^{t_2} L \left( q_i^{(\alpha)}(t), \dot{q}_i^{(\alpha)}(t), t \right) dt \quad (2.1)$$

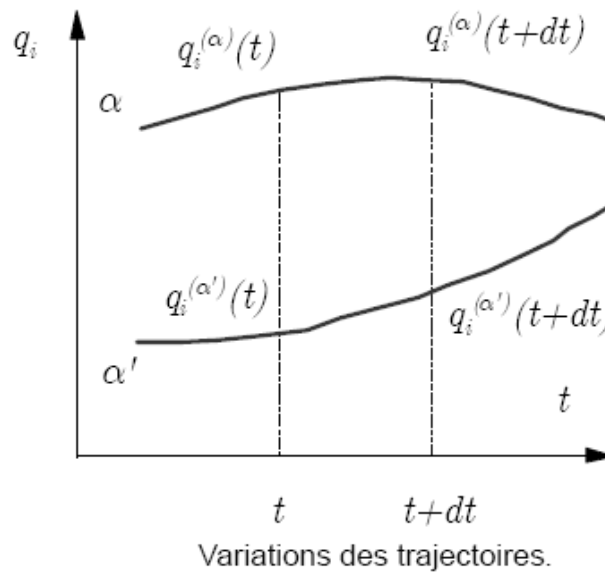
#### Remarque 1 :

- On aurait pu prévoir  $L$  ait une dépendance en  $\ddot{q}$  mais l'expérience (posé par lagrange ) nous indique que ce n'est pas nécessaire.
- Le principe de moindre action dit que la trajectoir physique effectivement suivie  $q_i^\alpha(t)$  est telle que  $S$  est minimale, ou plus généralement extrémale.

$$\left. \frac{dS(\alpha)}{d\alpha} \right|_{\bar{\alpha}} = 0 \quad (2.2)$$

## 2.2. Variation fonctionnelle :

La variation est faite en comparant des trajectoires, c'est-à-dire en variant selon les fonctions  $q_i^\alpha(t)$ . **Figure 2.1**



**Figure 2.1**

On notera de telles variation à l'aide du symbole  $\delta$  (delta) plutôt que du symbole d, la distinction est claire.

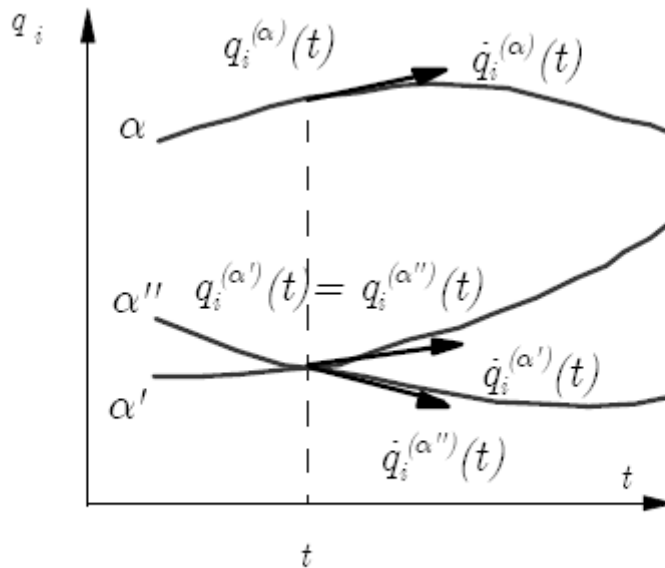
différence  $d$  :  $dq_i^{(\alpha)}(t) = q_i^{(\alpha)}(t + dt) - q_i^{(\alpha)}(t)$  (2.3)

variation  $\delta$  :  $\delta q_i^{(\alpha)}(t) = q_i^{(\alpha)}(t) - q_i^{(\alpha')}(t)$ . (2.4)

Sur une trajectoire donnée on connaît (**Figure 2.2**) :

$$q_i^{(\alpha)}(t) - q_i^{(\alpha')}(t) = q_i^{(\alpha)}(t) - q_i^{(\alpha'')}(t) = \delta q_i^{(\alpha)}(t) \quad (2.5)$$

$$\dot{q}_i^{(\alpha)}(t) - \dot{q}_i^{(\alpha')}(t) \neq \dot{q}_i^{(\alpha)}(t) - \dot{q}_i^{(\alpha'')}(t) \quad (2.6)$$



Comparaison des trajectoires  $\alpha$  et  $\alpha'$ :  $\delta q^{(\alpha)}(t)$  est le même.

**Figure 2.2**

Les variations des vitesses sont donc indépendantes de variations des coordonnées dans ce formalisme.

$$\delta \dot{q}_i^{(\alpha)}(t) = \delta \left( \frac{d}{dt} q_i^{(\alpha)}(t) \right) = \frac{d}{dt} \left( \delta q_i^{(\alpha)}(t) \right). \quad (2.7)$$

-Si nous calculons la différentielle ordinaire d'une fonction  $f(x,y)$ , c'est-à-dire  $df$  nous obtenons :

$$df(x, y) = \frac{\partial f}{\partial x} dx + \frac{\partial f}{\partial y} dy \quad (2.8)$$

-Si la variation  $dx$  et  $dy$  sont indépendants (par exemple  $dL$ ) :

$$\delta L(q_i, \dot{q}_i, t) = \sum_i \frac{\partial L}{\partial q_i} \delta q_i + \sum_i \frac{\partial L}{\partial \dot{q}_i} \delta \dot{q}_i \quad (2.9)$$

Il n'y a pas de terme  $\frac{\delta L}{\delta t} \delta t$  puisque  $\delta t = 0$ .

On applique le principe de moindre action :

$$\delta S = \delta \int_{t_1}^{t_2} L(q_i, \dot{q}_i, t) dt = \int_{t_1}^{t_2} \delta L(q_i, \dot{q}_i, t) dt = 0 \quad (2.10)$$

$$0 = \int_{t_1}^{t_2} \delta L(q_i, \dot{q}_i, t) dt \quad (2.11)$$

$$\begin{aligned} &= \int_{t_1}^{t_2} \left[ \sum_i \frac{\partial L}{\partial q_i} \delta q_i + \sum_i \frac{\partial L}{\partial \dot{q}_i} \delta \dot{q}_i \right] dt \\ &= \int_{t_1}^{t_2} \left[ \sum_i \frac{\partial L}{\partial q_i} \delta q_i + \sum_i \frac{\partial L}{\partial \dot{q}_i} \frac{d(\delta q_i)}{dt} \right] dt. \end{aligned} \quad (2.12)$$

On intègre par parties le deuxième terme du crochet :

$$\int_a^b U(x)W(x)dx = \int_a^b (U, W)' x dx - \int_a^b U'(x)W(x)dx \quad (2.13)$$

$$\int_{t_1}^{t_2} \frac{\partial L}{\partial \dot{q}_i} \frac{d(\delta q_i)}{dt} dt = \int_{t_1}^{t_2} \frac{d}{dt} \left( \frac{\partial L}{\partial \dot{q}_i} \delta q_i \right) dt - \int_{t_1}^{t_2} \frac{d}{dt} \left( \frac{\partial L}{\partial \dot{q}_i} \right) \delta q_i dt \quad (2.14)$$

$$= \underbrace{\frac{\partial L}{\partial \dot{q}_i} \delta q_i \Big|_{t_1}^{t_2}}_{=0} - \int_{t_1}^{t_2} \frac{d}{dt} \left( \frac{\partial L}{\partial \dot{q}_i} \right) \delta q_i dt \quad (2.15)$$

$$\delta q_i(t_1) = \delta q_i(t_2) = 0$$

$$\int_{t_1}^{t_2} \sum_i \left[ \frac{\partial L}{\partial q_i} - \frac{d}{dt} \left( \frac{\partial L}{\partial \dot{q}_i} \right) \right] \delta q_i dt = 0. \quad (2.16)$$

Posant que le  $q_i$  sont indépendantes et comme ils sont quelconques, la seule façon de satisfaire cette équation est que chaque terme dans le crochet soit identiquement nul :

$$\frac{d}{dt} \left( \frac{\partial L}{\partial \dot{q}_i} \right) - \frac{\partial L}{\partial q_i} = 0. \quad (2.17)$$

### Identité de Beltrami :

- Un cas particulier fréquent est celui où la fonction  $L$  est indépendante de  $t$ .
- L'équation d'Euler-Lagrange prend la forme suivante, appelée identité de Beltrami :

$$L - \dot{q}_i \left( \frac{\partial L}{\partial \dot{q}_i} \right) = C = \text{constante} \quad (2.18)$$

-pour s'en rendre compte ,décrivons par rapport au temps l'identité de Beltrami :

$$\frac{d}{dt} \left( L - \dot{q}_i \left( \frac{\partial L}{\partial \dot{q}_i} \right) \right) = 0 \quad (2.19)$$

$$\frac{dL}{dt} = \left( \left( \frac{\partial L}{\partial q_i} \right) \frac{dq_i}{dt} + \left( \frac{\partial L}{\partial \dot{q}_i} \right) \frac{d\dot{q}_i}{dt} \right) \quad (2.20)$$

$$= \left( \left( \frac{\partial L}{\partial q_i} \right) \dot{q}_i + \left( \frac{\partial L}{\partial \dot{q}_i} \right) \ddot{q}_i \right) \quad (2.21)$$

$$\frac{d}{dt} \left( \dot{q}_i \left( \frac{\partial L}{\partial \dot{q}_i} \right) \right) = \ddot{q}_i \left( \frac{\partial L}{\partial \dot{q}_i} \right) + \dot{q}_i \frac{d}{dt} \left( \frac{\partial L}{\partial \dot{q}_i} \right) = 0 \quad (2.22)$$

$$\frac{d}{dt} \left( L - \dot{q}_i \left( \frac{\partial L}{\partial \dot{q}_i} \right) \right) = 0 \quad (2.23)$$

$$\left( \dot{q}_i \left( \frac{\partial L}{\partial q_i} \right) + \ddot{q}_i \left( \frac{\partial L}{\partial \dot{q}_i} \right) - \ddot{q}_i \left( \frac{\partial L}{\partial \dot{q}_i} \right) - \dot{q}_i \frac{d}{dt} \left( \frac{\partial L}{\partial \dot{q}_i} \right) \right) = 0 \quad (2.24)$$

$$\left( \dot{q}_i \left( \frac{\partial L}{\partial q_i} \right) - \dot{q}_i \frac{d}{dt} \left( \frac{\partial L}{\partial \dot{q}_i} \right) \right) = 0 \quad (2.25)$$

$$\dot{q}_i \left( \left( \frac{\partial L}{\partial q_i} \right) - \frac{d}{dt} \left( \frac{\partial L}{\partial \dot{q}_i} \right) \right) = 0 \quad (2.26)$$

l'équation d'Euler-Lagrange :

$$\frac{d}{dt} \left( \frac{\partial L}{\partial \dot{q}_i} \right) - \left( \frac{\partial L}{\partial q_i} \right) = 0 \quad (2.27)$$

### 2.3. Le Lagrangien :

-Il est évident, toute la validité de la méthode repose sur le choix ou la définition de L.

- les équations d'Euler-Lagrange prétendent résoudre le problème mécanique ayant la trajectoire comme solution.

-Et que ces équations devront correspondre aux équations de Newton.

#### a-Forces conservatrices :

On appelle une force conservatrice :

$$\nabla \wedge \vec{F} = 0 \quad (2.28)$$

F(r) une telle force peut s'écrire alors :

$$\vec{F}(\mathbf{r}) = -\nabla V(\mathbf{r}) \quad (2.29)$$

V(r) énergie de potentiel.

$$L = T - V \quad (2.30)$$

T : l'énergie cinétique.

-On va vérifier que les équations d'Euler-Lagrange correspondent aux équations de Newton :  $x_i = (x, y, z)$  (utilisons les coordonnées cartésiennes noté  $x_j$ )

$$T = \sum_j \frac{1}{2} m \dot{x}_j^2, \quad V = V(x_j). \quad (2.31)$$

$$L = T - V = \sum_j \frac{1}{2} m \dot{x}_j^2 - V(x_j). \quad (2.32)$$

-l'équation d'Euler-Lagrange par le degré de liberté  $x_i$  :

$$\frac{\partial L}{\partial x_i} = -\frac{\partial V}{\partial x_i} \quad (2.33)$$

$$\frac{\partial L}{\partial \dot{x}_i} = m\dot{x}_i \quad \Longrightarrow \quad \frac{d}{dt} \left( \frac{\partial L}{\partial \dot{x}_i} \right) = m\ddot{x}_i \quad (2.34)$$

-l'équation d'Euler-lagrange donne donc ici :

$$m\ddot{x}_i = -\frac{\partial V}{\partial x_i} = \vec{F}_i. \text{ Il y a donc équivalence complète avec Newton.}$$

**b- Force non conservateurs :**

$$\vec{F}(\mathbf{r}) \neq -\nabla V(\mathbf{r}). \quad (2.35)$$

Peut de fonctions F dérivent d'un gradient, il en est ainsi par exemple des forces de frictions que l'on écrit souvent empiriquement comme

$$\vec{F}_{\text{frict.}} = -k_{(n)}\dot{x}^n \quad (2.36)$$

Où typiquement  $n \approx 1$  pour les basses vitesses (écoulement laminaire) et  $n \approx 2$  pour des vitesses plus élevées (écoulement turbulent).

Est alors l'équation d'Euler-Lagrange s'écrit :

$$\frac{d}{dt} \left( \frac{\partial L}{\partial \dot{q}_i} \right) - \frac{\partial L}{\partial q_i} = Q_i. \quad (2.37)$$

**2.4. Coordonnées curvilignes :**

**a- Pendule simple, plan :**

Soit une masse  $m$  accrochée à une tige de longueur  $\rho$  constante, dans un champ de gravitation  $g_j$ , oscillant dans le plan  $(x, y)$ . On note  $F$  la force exercée par la tige sur la masse  $m$ . Quelle est l'équation du mouvement de la masse  $m$ ?

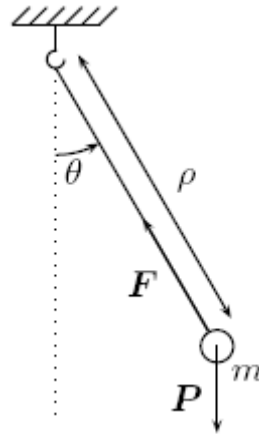


Figure.2.3

$$\begin{aligned}
 L &= T - V \\
 &= \frac{1}{2}m\rho^2\dot{\theta}^2 - (-mg\rho \cos \theta) \\
 &= \frac{1}{2}m\rho^2\dot{\theta}^2 + mg\rho \cos \theta
 \end{aligned}
 \tag{2.38}$$

L'équation de Lagrange s'écrit :

$$\begin{aligned}
 \frac{d}{dt} \left( \frac{\partial L}{\partial \dot{\theta}} \right) &= \frac{\partial L}{\partial \theta} \\
 \frac{d}{dt} (m\rho^2\dot{\theta}) &= -mg\rho \sin \theta \\
 \rho\ddot{\theta} + g \sin \theta &= 0
 \end{aligned}
 \tag{2.39}$$

**b-Pendule sphérique :**

Soit un pendule de masse m et de longueur r pouvant osciller dans toutes les directions

**Fig.2.4.** Quelle est l'équation du mouvement de la masse m?

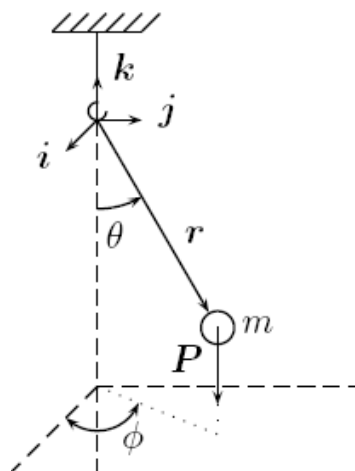


Figure.2.4



### Résolution par la mécanique de Lagrange :

En coordonnées sphérique ( $r, \theta, \phi$ ), le vecteur position s'écrit :

$$\mathbf{r} = r \sin \theta \cos \phi \mathbf{i} + r \sin \theta \sin \phi \mathbf{j} + r \cos \theta \mathbf{k} \quad (2.40)$$

Et le vecteur vitesse :

$$\mathbf{v} = \left( r\dot{\theta} \cos \theta \cos \phi - r\dot{\phi} \sin \theta \sin \phi \right) \mathbf{i} + \left( r\dot{\theta} \cos \theta \sin \phi + r\dot{\phi} \sin \theta \cos \phi \right) \mathbf{j} - r\dot{\theta} \sin \theta \mathbf{k}$$

Si bien que :

$$\begin{aligned} v^2 &= r^2 \dot{\theta}^2 \cos^2 \theta \cos^2 \phi + r^2 \dot{\phi}^2 \sin^2 \theta \sin^2 \phi - 2r^2 \dot{\theta} \dot{\phi} \cos \theta \cos \phi \sin \theta \sin \phi \\ &\quad + r^2 \dot{\theta}^2 \cos^2 \theta \sin^2 \phi + r^2 \dot{\phi}^2 \sin^2 \theta \cos^2 \phi + 2r^2 \dot{\theta} \dot{\phi} \cos \theta \sin \phi \sin \theta \cos \phi \\ &\quad + r^2 \dot{\theta}^2 \sin^2 \theta \\ &= r^2 \dot{\theta}^2 + r^2 \dot{\phi}^2 \sin^2 \theta \end{aligned}$$

L'énergie cinétique s'écrit :

$$T = \frac{1}{2} m r^2 \left( \dot{\theta}^2 + \dot{\phi}^2 \sin^2 \theta \right) \quad (2.41)$$

Et l'énergie potentielle :

$$V = -m g r \cos \theta \quad (2.42)$$

Le Lagrangien a pour expression :

$$L = T - V \quad (2.43)$$

$$= \frac{1}{2} m r^2 \left( \dot{\theta}^2 + \dot{\phi}^2 \sin^2 \theta \right) + m g r \cos \theta \quad (2.44)$$

La coordonnée généralisée  $\phi$  étant cyclique, son moment conjugué est une intégrale première du mouvement. Les équations de Lagrange s'écrivent :

$$\begin{cases} \frac{d}{dt} \left( \frac{\partial L}{\partial \dot{\theta}} \right) - \frac{\partial L}{\partial \theta} = 0 \\ \frac{d}{dt} \left( \frac{\partial L}{\partial \dot{\phi}} \right) - \frac{\partial L}{\partial \phi} = 0 \end{cases} \quad (2.45)$$

$$\begin{cases} \frac{d}{dt} (mr^2\dot{\theta}) - mr^2\dot{\phi}^2 \sin \theta \cos \theta + mgr \sin \theta = 0 \\ \frac{d}{dt} (mr^2\dot{\phi} \sin^2 \theta) = 0 \end{cases} \quad (2.46)$$

$$\begin{cases} mr^2\ddot{\theta} - mr^2\dot{\phi}^2 \sin \theta \cos \theta + mgr \sin \theta = 0 \\ \dot{\phi} \sin^2 \theta = C^{ste} \end{cases} \quad (2.47)$$

Nous obtenons l'équation différentielle du second ordre suivante :

$$\begin{aligned} \ddot{\theta} &= \dot{\phi}^2 \sin \theta \cos \theta - \frac{g \sin \theta}{r} \\ &= \dot{\phi}^2 \sin^4 \theta \frac{\cos \theta}{\sin^3 \theta} - \frac{g \sin \theta}{r} \\ &= C^{ste} \times \frac{\cos \theta}{\sin^3 \theta} - \frac{g \sin \theta}{r} \end{aligned} \quad (2.48)$$

### 2.5. Contraintes holonomes et non holonomes :

$$f(q_1, q_2, \dots, \dot{q}_1, \dot{q}_2, \dots) \begin{cases} > 0 \\ = 0 \\ < 0 \end{cases} \quad (2.49)$$

Les cas d'intégralité correspondent à des contraintes non holonomes. En fait, on définit comme contraintes holonomes les contraintes qui s'écrivent :

$$f(q_i, \dot{q}_i, t) = \frac{d}{dt} h(q_i, t) = 0 \text{ soit } h(q_i, t) = C \quad (2.50)$$

Où  $h(q_i, t)$  est une fonction quelconque des coordonnées (et du temps). On appelle non holonomes celles qui n'obéissent pas à une telle relation. Soit que

$$1. f(q_i, \dot{q}_i, t) \neq \frac{d}{dt} h(q_i, t) \quad (2.51)$$

$$2. \text{ ou } f(q_i, \dot{q}_i, t) < 0 \text{ ou } f(q_i, \dot{q}_i, t) > 0 \quad (2.52)$$

## Chapitre 2 : Formalisme de Lagrange

---

Par ailleurs, si l'équation de la contrainte holonome dépend du temps, elle est dite rhéonome si elle n'en dépend pas, elle est dite scléronome.

$$f=0, \frac{\partial f}{\partial t} \neq 0 \text{ contrainte rhéonome.}$$

$$f=0, \frac{\partial f}{\partial t} = 0 \text{ contrainte scléronome.}$$

### 2.6. Le principe de D'Alembert :

En notant  $F_i$  le modèle de la force totale extérieure exercée sur le solide  $i$ , et  $p_i$  la quantité de mouvement de ce même solide, nous avons :

$$\vec{F}_i = \dot{p}_i \quad (2.53)$$

Tout problème de dynamique peut se réduire à un problème de statique, simplement en écrivant que :

$$\vec{F}_i - \dot{p}_i = 0 \quad (2.54)$$

Et en considérant que la force d'inertie  $P_i$  est maintenant une force appliquée. Puisqu'il y a équilibre, on applique le principe des travaux virtuels :

$$(\vec{F}_i - \dot{p}_i) \cdot \delta r_i = 0 \quad (2.55)$$

Cela étant valable pour chaque solide nous pouvons sommer sur  $i$ . Si de plus nous utilisons les équations de liaison, nous obtenons le principe de D'Alembert :

$$\sum_i (\vec{F}_i - \dot{p}_i) \cdot \delta r_i = 0 \quad (2.56)$$

La force  $F_i$  s'exerçant sur le solide  $i$  se décompose en une force active et une force de contrainte :

$$\vec{F}_i = \vec{F}_i^{active} + \vec{F}_i^{contrainte} \quad (2.57)$$

En général, nous choisirons des déplacements virtuels pour lesquels les forces de contrainte ne travaillent pas :

$$\vec{F}_i^{contrainte} \cdot \delta r_i = 0 \quad (2.58)$$

## Chapitre 2 : Formalisme de Lagrange

---

Et dans ce cas le principe de D'Alembert s'écrit,

$$\sum_i (\vec{F}_i^{active} - \dot{\vec{p}}_i) \cdot \delta \vec{r}_i = 0 \quad (2.59)$$

### 2.7. Applications :

#### 2.7.1. Particule dans un champ gravitationnel :

Une particule de masse  $m$  dans le champ gravitationnel près de surface à une énergie potentielle  $V=mgz$  ou  $z$  mesure sa hauteur et  $g$  est l'accélération due à la gravité.

Son énergie cinétique est :

$$T = \frac{m}{2}(\dot{x}^2 + \dot{y}^2 + \dot{z}^2) \quad (2.60)$$

Donc :

$$L = \frac{m}{2}(\dot{x}^2 + \dot{y}^2 + \dot{z}^2) - mgz. \quad (2.61)$$

On a trois équation d'Euler-Lagrange :

$$\frac{d}{dt} \left( \frac{\partial L}{\partial \dot{x}} \right) = 0 \quad (2.62)$$

$$\frac{\partial L}{\partial \dot{x}} = m\dot{x} = c \quad (2.63)$$

$$x(t) = ct + a \quad (2.64)$$

Où les constantes  $C$  et  $a$  sont déterminées par les conditions initiales du problème de la même façon.

$$Y(t) = C' + a' \quad (2.65)$$

Pour  $z$  nous avons :

$$\frac{\partial L}{\partial z} = -mg \quad (2.66)$$

$$\frac{\partial L}{\partial \dot{z}} = m\dot{z} \implies \frac{d}{dt} \left( \frac{\partial L}{\partial \dot{z}} \right) = m\ddot{z} \quad (2.67)$$

$$m\ddot{z} + mg = 0 \quad \text{ou} \quad \ddot{z} = -g \quad (2.68)$$

$$z(t) = -\frac{gt^2}{2} + c''t + a'' \quad (2.69)$$

$c'$  et  $a''$  sont déterminées par les conditions du problème.

$$\begin{aligned} x(t) &= ct + a \\ y(t) &= c't + a' \\ z(t) &= -\frac{gt^2}{2} + c''t + a'' \end{aligned}$$

### 2.7.2. Particule liée à un ressort :

Une particule de masse  $m$  est suspendue à un ressort de constante  $K$  dans le champ gravitationnel près de la surface de la terre. On pose que seul le mouvement vertical permis son énergie potentiel est :

$$V = \frac{k}{2}(z - z_0)^2 + mgz$$

$$T = \frac{m}{2}\dot{z}^2$$

$$L = \frac{m}{2}\dot{z}^2 - \frac{k}{2}(z - z_0)^2 - mgz$$

$$\begin{aligned}\frac{\partial L}{\partial z} &= -k(z - z_0) - mg \\ \frac{d}{dt} \left( \frac{\partial L}{\partial \dot{z}} \right) &= \frac{d}{dt} (m\dot{z}) = m\ddot{z}.\end{aligned}\tag{2.70}$$

L'équation d'Euler-Lagrange : (il y a qu'un seul degré de liberté)

$$\begin{aligned}m\ddot{z} + k(z - z_0) + mg &= 0 \\ m\ddot{z} + kz &= kz_0 - mg.\end{aligned}\tag{2.71}$$

On va diviser la solution d'une telle équation en deux parties :

$$z = z_h + z_p\tag{2.72}$$

1-solution homogène  $Z_h$  qui est solution de :

$$m\ddot{z}_h + kz_h = 0.\tag{2.73}$$

2-Solution particulière  $Z_p$  telle que :

$$m\ddot{z}_p + kz_p = kz_0 - mg\tag{2.74}$$

## Chapitre 2 : Formalisme de Lagrange

---

L'équation homogène trouve solution avec la forme :

$$\begin{aligned}z_h &= Ae^{st} \\ \frac{dz_h}{dt} &= sz_h \\ m\ddot{z}_h + kz_h &= 0 \\ &\Downarrow \\ ms^2 + k &= 0 \\ s^2 = -\frac{k}{m} &\implies s = \pm i\omega \text{ où } \omega = \sqrt{\frac{k}{m}}.\end{aligned}\tag{2.75}$$

La solution générale s'écrit :

$$z_h(t) = A'e^{i\omega t} + B'e^{-i\omega t} = A \sin(\omega t + \delta)\tag{2.76}$$

Le terme non homogène obéit :

$$\begin{aligned}m\ddot{z}_p + kz_p &= kz_0 - mg = \text{constante.} \\ z_p &= \text{constante} = C \\ z(t) &= z_h(t) + C \\ &= A \sin(\omega t + \delta) + C \\ m\ddot{z} + kz &= kz_0 - mg \\ \ddot{z} &= \ddot{z}_h + 0 = -\omega^2 A \sin(\omega t + \delta) \\ m\ddot{z} + kz &= kz_0 - mg\end{aligned}\tag{2.77}$$

-le champ gravitationnel cause un déplacement du ressort (vers le bas) d'une longueur  $mg/k$ .

### 2.7.3. Problème à deux corps :

C'est le système physique fermé le plus simple qui existe. Deux particules, de masses  $m_1$  et  $m_2$ , dont les positions instantanées sont  $\mathbf{r}_1$  et  $\mathbf{r}_2$  interagissent via un potentiel :

$$V(\mathbf{r}_1, \mathbf{r}_2) = V(\mathbf{r}_1 - \mathbf{r}_2) \quad (2.78)$$

Alors le lagrangien s'écrira :

$$L = \frac{m_1}{2} \dot{\mathbf{r}}_1^2 + \frac{m_2}{2} \dot{\mathbf{r}}_2^2 - V(\mathbf{r}_1 - \mathbf{r}_2). \quad (2.79)$$

$\mathbf{r} = \mathbf{r}_1 + \mathbf{r}_2$  est la coordonnée de centre de masse.

$$\mathbf{R} = \frac{m_1 \mathbf{r}_1 + m_2 \mathbf{r}_2}{m_1 + m_2} \quad (2.80)$$

$$\mathbf{r}_1 = \mathbf{R} + \frac{m_2}{m_1 + m_2} \mathbf{r} \quad (2.81)$$

$$\mathbf{r}_2 = \mathbf{R} - \frac{m_1}{m_1 + m_2} \mathbf{r} \quad (2.82)$$

$$\dot{\mathbf{r}}_1 = \dot{\mathbf{R}} + \frac{m_2}{m_1 + m_2} \dot{\mathbf{r}} \quad (2.83)$$

$$\dot{\mathbf{r}}_2 = \dot{\mathbf{R}} - \frac{m_1}{m_1 + m_2} \dot{\mathbf{r}} \quad (2.84)$$

Remplaçant dans le lagrangien nous obtenons :

$$L = \frac{M}{2} \dot{\mathbf{R}}^2 + \frac{m}{2} \dot{\mathbf{r}}^2 - V(\mathbf{r}) \quad (2.85)$$



$$\begin{aligned} M &= m_1 + m_2 = \text{masse totale du système} \\ m &= \frac{m_1 m_2}{m_1 + m_2} = \text{masse réduite du système} \end{aligned}$$

et le lagrangien se décompose en deux éléments qui ne sont pas reliés :

$$L = L_{\text{CM}} + L_{\text{rel.}} \quad (2.86)$$

$L_{\text{CM}}$  est simplement l'énergie cinétique globale du système (À noter que si  $m_2 \gg m_1$  (par exemple le cas Soleil-Terre), alors  $m \simeq m_1$ ,  $L_{\text{rel.}} = L_{m_1}$ ) et

$$L_{\text{CM}} = \frac{M}{2} \dot{\mathbf{R}}^2 \quad (2.87)$$

$\mathbf{R}$  est une variable cyclique :

$$\frac{\partial L}{\partial \mathbf{R}} = 0 \implies \frac{\partial L}{\partial \dot{\mathbf{R}}} = \mathbf{C} = \text{vecteur constant}$$

Le C.M. se déplace à vitesse constante. La deuxième partie, relative, est :

$$L_{\text{rel.}} = \frac{m}{2} \dot{\mathbf{r}}^2 - V(\mathbf{r}) \quad (2.88)$$

C'est le lagrangien d'une particule de masse  $m$  et de position  $\mathbf{r}$ .

### 2.7.4. Le potentiel central :

Nous étudions ici un problème à un corps à un corps qui est aussi assimilable à celui d'une particule soumise à une force centrée à l'origine l'lagrangien est de la forme :

$$L = \frac{m}{2} \dot{\mathbf{r}}^2 - V(\mathbf{r}). \quad (2.89)$$

Le moment cinétique :

$$\mathbf{l} = m\mathbf{r} \times \dot{\mathbf{r}} \quad (2.90)$$

$$\dot{\mathbf{l}} = m\dot{\mathbf{r}} \times \dot{\mathbf{r}} + m\mathbf{r} \times \ddot{\mathbf{r}} = \mathbf{0} + \mathbf{r} \times \mathbf{F} = \mathbf{0} \quad (2.91)$$

$$\mathbf{l} = m\mathbf{r} \times \dot{\mathbf{r}} = \text{vecteur constant}$$

$$\mathbf{l} \perp \mathbf{r}, \dot{\mathbf{r}} \quad (2.92)$$

### Lagrangien en coordonnées polaires :

Choisissons un plan xoy avec  $\theta = \frac{\pi}{2}$  donc  $\dot{\theta} = 0$  et  $\sin \frac{\pi}{2} = 1$ .

On trouve :

$$L = \frac{m}{2}(\dot{r}^2 + r^2\dot{\varphi}^2) - V(r) \quad (2.93)$$

$$\frac{\partial L}{\partial \varphi} = 0$$

$$\frac{\partial L}{\partial \dot{\varphi}} = mr^2\dot{\varphi} = l,$$

$$\frac{\partial L}{\partial r} = mr\dot{\varphi}^2 - \frac{\partial V}{\partial r}$$

$$\frac{\partial L}{\partial \dot{r}} = m\dot{r} \implies \frac{d}{dt} \left( \frac{\partial L}{\partial \dot{r}} \right) = m\ddot{r}$$

$$\boxed{m\ddot{r} - mr\dot{\varphi}^2 + \frac{\partial V}{\partial r} = 0}$$

(2.94)

$$\dot{\varphi} = \frac{l}{mr^2}$$

$$m\ddot{r} - \frac{l^2}{mr^3} + \frac{\partial V}{\partial r} = 0$$

$$\boxed{m\ddot{r} = -\frac{\partial V}{\partial r} + \frac{l^2}{mr^3} \equiv -\frac{\partial V_{\text{eff}}(r)}{\partial r}}$$

(2.95)

$$V_{\text{eff}}(r) = V(r) + \frac{l^2}{2mr^2}.$$

$$m\ddot{r} = -\frac{\partial V_{\text{eff}}(r)}{\partial r} = \vec{F}_{\text{eff}}(r).$$

(2.96)

Le potentiel efficace  $V_{\text{eff}}(r)$  est constitué du potentiel original  $V(r)$  plus  $\frac{l^2}{2mr^2}$  qui représente une répulsion centrifuge.

### Exercices :

#### Exercice N° 1 :

Déterminer l'équation d'Euler-Lagrange en utilisant deux méthodes différentes :

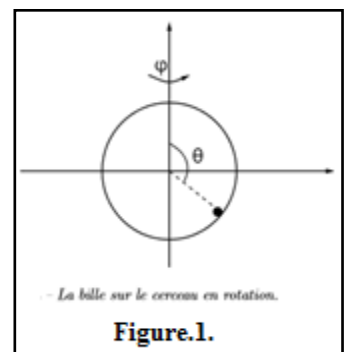
Indication :

1.  $df(x,y) = \frac{\partial f}{\partial x} dx + \frac{\partial f}{\partial y} dy$
2.  $\int_a^b U(x)W(x) = \int_a^b (u, w)' x dx - \int_a^b (u)' w(x) dx$
3.  $L - \dot{q}_i \frac{\partial L}{\partial \dot{q}} = \text{constante}$

#### Exercice N°2 :

Une bille glisse sans frottement le long d'un cerceau de rayon  $R$  animé d'un mouvement de rotation autour de son axe à vitesse angulaire  $\omega$  constante. La position de la bille sur le cerceau est déterminée par un seul degré de liberté, l'angle  $\theta$  avec la verticale. La position du cerceau est elle d'écrite par l'angle  $\varphi$  (voir la **FIG.1**).

1. Ecrire le Lagrangien de ce système et en déduire l'équation du mouvement ?

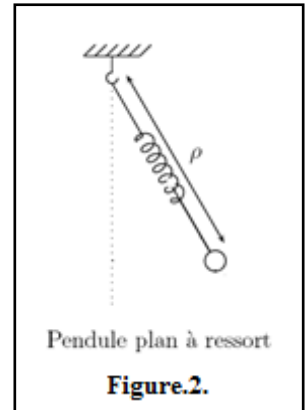


## Chapitre 2 : Formalisme de Lagrange

### Exercice N°3 :

Soit un pendule simple, à ressort, de longueur  $\rho(t)$  variable. La masse  $m$  est supposée osciller dans le plan. (Fig.2) Quelle est l'équation de son mouvement :

1. résolution par la mécanique de Newton ?
2. résolution par la mécanique de Lagrange ?



### Exercice N°4 :

L'énergie potentielle d'un oscillateur harmonique (classique) à une dimension s'écrit :

$$U(q) = \frac{1}{2} m \omega^2 q^2$$

- 1- écrire le lagrangien de l'oscillateur harmonique et en déduire l'équation du mouvement ?

### Exercice N°5 :

On considère l'électron d'un atome hydrogénoïde subissant l'effet du potentiel central :

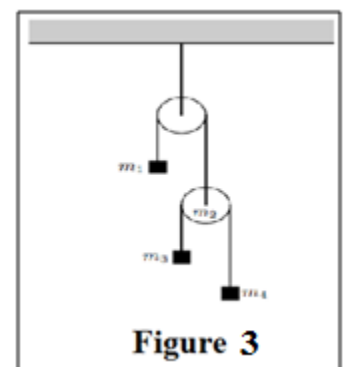
$$V(\mathbf{r}) = -\frac{Ze^2}{4\pi\epsilon_0 r} = -\frac{C}{r}$$

- 1- Donner l'expression du lagrangien de ce système en coordonnées sphériques et en déduire les équations du mouvement ?
- 2- En déduire l'existence de quantités conservées ? interpréter ?

### Exercice N°6 : Machine d'Atwood à rendre :

Considérer le dispositif de double poulie, présenté ci-contre, soumis à la seule action de la pesanteur. Fig.3.

- 1- Donner les contraintes de ce système ?
- 2- Ecrire le Lagrangien de ce système en choisissant les positions des masses  $m_1$  et  $m_3$  comme coordonnées généralisées ?
- 3- Dérivée les équations du mouvement de ces masses et déterminer l'accélération des masses  $m_1$  et  $m_3$  ?

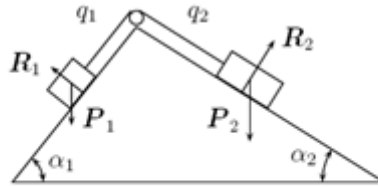


## Chapitre 2 : Formalisme de Lagrange

---

### Exercice N°8 :

Deux masses  $m_1$  et  $m_2$  sur un double plan incliné sont reliées entre elles par un fil de longueur constante passant par une poulie. Les masses se déplacent sans frottement. Quelle est l'équation de leurs mouvements ? Résolution par le principe d'Alembert.



**Figure.4.**

# *Chapitre III.*

## *Formalisme de Hamilton*

---

### 3. Introduction :

Le formalisme d'Hamilton consiste à réécrire les  $N$  équations du second ordre d'Euler Lagrange comme un système de  $2N$  équation du premier ordre.

#### 3.1. Transformation de Legendre :

Soit une fonction  $f(u, v)$  où  $u$  et  $v$  sont les deux variables indépendantes :

$$w = \frac{\partial f(u, v)}{\partial v} = w(u, v). \quad (3.1)$$

La transformation de Legendre permet de définir une fonction  $g(u, w)$  qui peut remplacer :

$$f(u, v) \mapsto g(u, w) = v \cdot w - f. \quad (3.2)$$

En effet :

$$df = \frac{\partial f}{\partial u} du + \frac{\partial f}{\partial v} dv = \frac{\partial f}{\partial u} du + w dv. \quad (3.3)$$

Nous calculons :

$$\begin{aligned} dg &= w dv + v dw - df \\ &= w dv + v dw - \frac{\partial f}{\partial u} du - w dv \\ &= v dw - \frac{\partial f}{\partial u} du \implies g = g(u, w) \end{aligned} \quad (3.4)$$

Pouvoir l'inverser en  $v = v(u, w)$  :

$$g(u, w) = w v(u, w) - f(u, v(u, w)). \quad (3.5)$$

Puisque  $g$  est fonction de  $u$  et  $w$

$$dg = \frac{\partial g}{\partial u} du + \frac{\partial g}{\partial w} dw \quad (3.6)$$

### Chapitre 3 : Formalisme de Hamilton

---

Et on identifie avec  $dg$  :

$$v = \frac{\partial g}{\partial w}, \quad \frac{\partial g}{\partial u} = -\frac{\partial f}{\partial u}. \quad (3.7)$$

### 3.2. L'Hamiltonien :

On pose :

$$\begin{aligned} L(q_i, \dot{q}_i, t) &\iff f(u, v) \\ q_i &\iff u \\ \dot{q}_i &\iff v \\ p_i \left( \equiv \frac{\partial L}{\partial \dot{q}_i} \right) &\iff w \left( = \frac{\partial f}{\partial v} \right) \\ H(q_i, p_i, t) &\iff g(u, w) \end{aligned} \quad (3.8)$$

Nous définissons le moment canonique :

$$p_i \equiv \frac{\partial L}{\partial \dot{q}_i} = p_i(q_j, \dot{q}_j, t); \quad i, j = 1, 2, \dots, n \quad (3.9)$$

Pouvoir l'inverser en :

$$\dot{q}_i = \dot{q}_i(q_j, p_j, t); \quad i, j = 1, 2, \dots, n \quad (3.10)$$

Par analogie :

$$\begin{array}{ccc} g(u, w) & = & v \cdot w - f \\ \downarrow & & \downarrow \quad \downarrow \\ H(q_i, p_i, t) & = & \sum_i^n \dot{q}_i p_i - L(q_i, \dot{q}_i, t) \end{array} \quad (3.11)$$

$$\begin{aligned} dL &= \sum_i^n \frac{\partial L}{\partial q_i} dq_i + \sum_i^n \frac{\partial L}{\partial \dot{q}_i} d\dot{q}_i + \frac{\partial L}{\partial t} dt \\ &= \sum_i^n \frac{\partial L}{\partial q_i} dq_i + \sum_i^n p_i d\dot{q}_i + \frac{\partial L}{\partial t} dt \end{aligned} \quad (3.12)$$



### Chapitre 3 : Formalisme de Hamilton

On calcule dH :

$$\begin{aligned}
 dH &= \sum_i^n \dot{q}_i dp_i + \sum_i^n p_i d\dot{q}_i - \underbrace{\sum_i^n \frac{\partial L}{\partial q_i} dq_i - \sum_i^n p_i d\dot{q}_i - \frac{\partial L}{\partial t} dt}_{dL} \\
 &= \sum_i^n \dot{q}_i dp_i - \sum_i^n \frac{\partial L}{\partial q_i} dq_i - \frac{\partial L}{\partial t} dt
 \end{aligned}
 \tag{3.13}$$

On peut écrire aussi dH :

$$dH = \sum_i^n \frac{\partial H}{\partial q_i} dq_i + \sum_i^n \frac{\partial H}{\partial p_i} dp_i + \frac{\partial H}{\partial t} dt
 \tag{3.14}$$

On comparant (3.13) avec (3.14) :

$$\begin{aligned}
 \frac{\partial H}{\partial q_i} &= -\frac{\partial L}{\partial q_i}; \quad n \text{ équations} \\
 \frac{\partial H}{\partial p_i} &= \dot{q}_i; \quad n \text{ équations} \\
 \frac{\partial H}{\partial t} &= -\frac{\partial L}{\partial t}.
 \end{aligned}
 \tag{3.15}$$

Si H ne dépend pas du temps :  $\frac{\partial H}{\partial t} = 0$

On écrit :

$$\frac{\partial L}{\partial q_i} = \frac{d}{dt} \left( \frac{\partial L}{\partial \dot{q}_i} \right) = \frac{d}{dt} p_i = \dot{p}_i
 \tag{3.16}$$

Et nous définissons les 2n équations canoniques du mouvement :

$$\left. \begin{aligned}
 \dot{q}_i &= \frac{\partial H}{\partial p_i}; \quad i = 1, 2, \dots, n \\
 \dot{p}_i &= -\frac{\partial H}{\partial q_i}; \quad i = 1, 2, \dots, n
 \end{aligned} \right\} 2n
 \tag{3.17}$$

### Exemple

Soit une particule de masse  $m$  se déplaçant en une dimension et soumise à une force  $F = -\frac{\partial V}{\partial x}$ .

$$L = \frac{m}{2} \dot{x}^2 - V(x).$$

$$p = \frac{\partial L}{\partial \dot{x}} = m\dot{x}$$

$$\dot{x} = \frac{p}{m}.$$

$$\begin{aligned} H &= \dot{x}(p)p - L(x, \dot{x}(p)) \\ &= \frac{p}{m} \cdot p - \frac{m}{2} \left(\frac{p}{m}\right)^2 + V(x) \\ &= \frac{p^2}{2m} + V(x) \end{aligned}$$

$$H = T + V$$

### 3.3. Crochets de Poisson et Variables canoniques :

#### 3.3.1. Crochets de Poisson :

Nous définissons le crochet de Poisson  $\{A, B\}_{q,p}$  :

$$\{A, B\}_{q,p} \equiv \sum_i^n \left[ \frac{\partial A}{\partial q_i} \frac{\partial B}{\partial p_i} - \frac{\partial A}{\partial p_i} \frac{\partial B}{\partial q_i} \right] \quad (3.18)$$

Soit une fonction quelconque  $F(q_i, p_i, t)$ . Sa dérivée totale par rapport au temps s'écrit :

$$\frac{dF}{dt} = \sum_i^n \left[ \frac{\partial F}{\partial q_i} \dot{q}_i + \frac{\partial F}{\partial p_i} \dot{p}_i \right] + \frac{\partial F}{\partial t}. \quad (3.19)$$

Avec :

$$\dot{q}_i = \frac{\partial H}{\partial p_i}, \quad \dot{p}_i = -\frac{\partial H}{\partial q_i}$$

Donc :

$$(3.20)$$

$$\begin{aligned}\frac{dF}{dt} &= \sum_i^n \left[ \frac{\partial F}{\partial q_i} \frac{\partial H}{\partial p_i} - \frac{\partial F}{\partial p_i} \frac{\partial H}{\partial q_i} \right] + \frac{\partial F}{\partial t} \\ &= \{F, H\} + \frac{\partial F}{\partial t}.\end{aligned}\tag{3.21}$$

si  $F$  ne dépend pas du temps  $\frac{\partial F}{\partial t} = 0$

Alors  $F(q_i, p_i)$  est une constante du mouvement si son crochet de Poisson avec  $H$  est nul.

$$\frac{dF}{dt} = \{F, H\} + \frac{\partial F}{\partial t} = \{F, H\}\tag{3.22}$$

$$\text{Si } \{F, H\} = 0 \quad \implies \quad \frac{dF}{dt} = 0\tag{3.23}$$

**Propriétés des crochets de Poisson :**

$$\{A, B\} = -\{B, A\}\tag{3.24}$$

$$\{A, b\} = 0 \quad b = \text{constante}\tag{3.25}$$

$$\{A, B + C\} = \{A, B\} + \{A, C\}\tag{3.26}$$

$$\{A, BC\} = B\{A, C\} + \{A, B\}C\tag{3.27}$$

$$\frac{\partial}{\partial t} \{A, B\} = \left\{ \frac{\partial A}{\partial t}, B \right\} + \left\{ A, \frac{\partial B}{\partial t} \right\}\tag{3.28}$$

$$\{A, q_i\} = -\frac{\partial A}{\partial p_i}\tag{3.29}$$

$$\{A, p_i\} = \frac{\partial A}{\partial q_i} \quad (3.30)$$

$$\{A, \{B, C\}\} + \{C, \{A, B\}\} + \{B, \{C, A\}\} = 0 \quad (3.31)$$

L'équation (3.31) est l'identité de Jacobi.

### Variables canoniques :

calculons les crochets de poisson entre des variables canoniques : coordonnées et moments :  $\{q_k, q_j\}$ ,  $\{p_k, p_j\}$  et  $\{q_k, p_j\}$  ( $k$  et  $j$  sont fixés).

$$\{q_k, q_j\} = \sum_i^n \left[ \frac{\partial q_k}{\partial q_i} \frac{\partial q_j}{\partial p_i} - \frac{\partial q_k}{\partial p_i} \frac{\partial q_j}{\partial q_i} \right] \equiv 0 \quad (3.32)$$

Puisque

$$\frac{\partial q_j}{\partial p_i} = 0, \quad \frac{\partial q_k}{\partial p_i} = 0 \quad (3.33)$$

Parce que les variables canoniques sont indépendantes et :

$$\{p_k, p_j\} = 0 \quad (3.34)$$

Pour la même raison, mais

$$\begin{aligned} \{q_k, p_j\} &= \sum_i^n \left[ \frac{\partial q_k}{\partial q_i} \frac{\partial p_j}{\partial p_i} - \frac{\partial q_k}{\partial p_i} \frac{\partial p_j}{\partial q_i} \right] \\ &= \sum_i^n \frac{\partial q_k}{\partial q_i} \frac{\partial p_j}{\partial p_i} \\ &= \sum_i^n \delta_{ki} \delta_{ji} = \delta_{kj} \end{aligned} \quad (3.35)$$

Ou  $\delta_{Kj}$  est le delta de Kronecker ( $\delta_{Kj} = 1$  si  $i=j$  et  $\delta_{Kj} = 0$  si  $i \neq j$ )

### 3.4. Moments généralisés :

Nous avons vus, les  $p_i$  étaient les composantes de  $P$  :

$$\mathbf{p} = m\mathbf{v} \quad (3.36)$$

Cette définition n'est pas toujours vrai lorsque les itérations dépendent des vitesses.

#### Exemple :

Une particule de masse  $m$  et de charge  $e$  dans un champ électromagnétique en coordonnée cartésienne  $x_i=(x, y, z)$  :

$$L = \frac{m}{2} \sum_i \dot{x}_i^2 + e \sum_i \dot{x}_i A_i - eV \quad (3.37)$$

$A$  et  $V$  sont les potentiels scalaire et vectoriel du champ électromagnétique.

$$p_i = \frac{\partial L}{\partial \dot{x}_i} = m\dot{x}_i + eA_i \quad (3.38)$$

On peut écrire :

$$\dot{x}_i = \frac{p_i - eA_i}{m} \quad (3.39)$$

$$H = \sum_i p_i \dot{x}_i - L \quad (3.40)$$

On obtient :

$$H = \frac{1}{2m} \sum_i (p_i - eA_i)^2 + eV. \quad (3.41)$$

### 3.5. Transformations canoniques :

Nous noterons  $Q_i$  et  $P_i$  les nouvelles variables canoniques obtenues suite à une telle transformation :

$$q_i, p_i \xrightarrow{\text{T.C.}} Q_i, P_i \quad (3.42)$$

### Chapitre 3 : Formalisme de Hamilton

Définissant un nouvel Hamiltonien que nous noterons :

$$q_i, p_i, H(q_i, p_i) \xrightarrow[\text{T.C.}]{} Q_i, P_i, H'(Q_i, P_i) \quad (3.43)$$

On calcule les trois crochets de poisson entre les variables canoniques :

$$\{Q_k, Q_j\}_{Q,P} = 0, \{P_k, P_j\}_{Q,P} = 0, \{Q_k, P_j\}_{Q,P} = \delta_{kj} \quad (3.44)$$

Et les équations canoniques :

$$\dot{Q}_i = \frac{\partial H'}{\partial P_i}, \quad (3.45)$$

$$\dot{P}_i = -\frac{\partial H'}{\partial Q_i}. \quad (3.46)$$

Avec :

$$\begin{aligned} Q_i &= Q_i(q_j, p_j, t) \\ P_i &= P_i(q_j, p_j, t) \end{aligned} \quad i, j = 1, 2, \dots, n \quad (3.47)$$

**Exemple de T.C :**

$$\begin{aligned} \text{Choisir la T.C.:} & \quad q_i, P_i \xrightarrow[\text{T.C.}]{} p_i, Q_i \\ & \quad \downarrow \\ \text{Écrire } p_i \text{ et } Q_i : & \quad p_i = p_i(q_j, P_j, t) \\ & \quad Q_i = Q_i(q_j, P_j, t) \\ & \quad \downarrow \\ \text{Inverser } p_i = p_i(q_j, P_j, t) : & \quad P_j = P_j(q_i, p_i, t) \\ & \quad \downarrow \\ \text{Substituer dans } Q_i = Q_i(q_j, P_j, t) : & \quad Q_i(q_j, P_j, t) \implies Q_i(q_j, p_j, t) \end{aligned} \quad (3.48)$$

**Fonction génératrices :**

$$L = \sum_i^n p_i \dot{q}_i - H \quad \text{où} \quad \dot{q}_i = \frac{\partial L}{\partial p_i} \quad (3.49)$$

On peut écrire :

$$\delta S = \delta \int_1^2 \left[ \sum_i^n p_i \dot{q}_i - H \right] dt = \delta \int_1^2 L dt = 0. \quad (3.50)$$

### Chapitre 3 : Formalisme de Hamilton

Si  $L$  correspond à  $H$  donc  $L'$  correspondra à  $H'$

$$\delta \int_1^2 L' dt = 0 \quad \text{où} \quad L' = \sum_i^n P_i \dot{Q}_i - H'. \quad (3.51)$$

Et nous aurons

$$L, H \xrightarrow[\text{T.C.}]{} L', H' \quad (3.52)$$

$L$  et  $L'$  ne peuvent différer l'un de l'autre que par la dérivée totale d'une fonction  $F$  :

$$L = L' + \frac{dF}{dt}. \quad (3.53)$$

On trouve donc :

$$\delta \int_1^2 \left[ \sum_i^n p_i \dot{q}_i - H \right] dt = \delta \int_1^2 \left[ \sum_i^n P_i \dot{Q}_i - H' + \frac{dF}{dt} \right] dt \quad (3.54)$$

On appelle  $F$  le générateur de la T.C et on identifie généralement quatre cas :

Variables indépendantes	Variable dépendantes	Générateurs
$\frac{q_i, Q_i}{q_i, P_i}$	$\frac{p_i, P_i}{p_i, Q_i}$	$\frac{F_1(q_i, Q_i, t)}{F_2(q_i, P_i, t)}$
$\frac{p_i, Q_i}{p_i, P_i}$	$\frac{q_i, P_i}{q_i, Q_i}$	$\frac{F_3(p_i, Q_i, t)}{F_4(p_i, P_i, t)}$

$$\frac{dF_1}{dt} = \{F_1, H\}_{q, Q} + \frac{\partial F_1}{\partial t} \quad (3.55)$$

$$= \sum_i^n \frac{\partial F_1}{\partial q_i} \dot{q}_i + \sum_i^n \frac{\partial F_1}{\partial Q_i} \dot{Q}_i + \frac{\partial F_1}{\partial t}. \quad (3.56)$$

$$\begin{aligned} \sum_i^n p_i \dot{q}_i - H(q_i, p_i, t) &= \sum_i^n P_i \dot{Q}_i - H'(Q_i, P_i, t) + \sum_i^n \frac{\partial F_1}{\partial q_i} \dot{q}_i \\ &\quad + \sum_i^n \frac{\partial F_1}{\partial Q_i} \dot{Q}_i + \frac{\partial F_1}{\partial t}. \end{aligned} \quad (3.57)$$

On identifie,  $q_i$ ,  $Q_i$  et donc  $\dot{q}_i$  et  $\dot{Q}_i$  comme étant indépendantes :

$$\begin{aligned} p_i &= \frac{\partial}{\partial q_i} F_1(q_j, Q_j, t) = p_i(q_j, Q_j, t) \\ P_i &= -\frac{\partial}{\partial Q_i} F_1(q_j, Q_j, t) = P_i(q_j, Q_j, t) \\ H' &= H + \frac{\partial F_1}{\partial t} \end{aligned} \quad (3.58)$$

Et de même façon, on identifie les facteurs des variables indépendantes,  $\dot{q}_i$  et  $\dot{P}_i$  pour la fonction F2 :

$$\begin{aligned} p_i &= \frac{\partial}{\partial q_i} F_2(q_j, P_j, t) = p_i(q_j, P_j, t) \\ Q_i &= \frac{\partial}{\partial P_i} F_2(q_j, P_j, t) = Q_i(q_j, P_j, t) \\ H' &= H + \frac{\partial F_2}{\partial t} \end{aligned} \quad (3.59)$$

### 3.6. La méthode de Hamilton-Jacobi :

Les transformations canoniques ont pour but de simplifier les problèmes. L'une d'entre elle est l'équation de Hamilton-Jacobi.

Le but de la méthode est d'opérer une T.C. telle que :

$$\dot{Q}_i = \frac{\partial H'}{\partial P_i} = 0 \iff Q_i = \beta_i = \text{constantes} \quad (3.60)$$

$$\dot{P}_i = -\frac{\partial H'}{\partial Q_i} = 0 \iff P_i = \alpha_i = \text{constantes} \quad (3.61)$$



### Chapitre 3 : Formalisme de Hamilton

---

Donc, on trouve :

$$\begin{aligned}q_i &= q_i(Q_j, P_j, t) \\ &= q_i(\beta_j, \alpha_j, t)\end{aligned}\tag{3.62}$$

$$\begin{aligned}p_i &= p_i(Q_j, P_j, t) \\ &= p_i(\beta_j, \alpha_j, t)\end{aligned}\tag{3.63}$$

Nous chercherons la fonction génératrice  $F_2(q_i, P_i, t)$  que nous noterons de façon standard  $S(q_i, \alpha_i, t)$ , telle que :

$$H'(Q_i, P_i, t) = H(q_i, p_i, t) + \frac{\partial S}{\partial t} \equiv 0.\tag{3.64}$$

C'est l'équation de Hamilton-Jacobi, une équation différentielle pour  $S$  de  $n$  variables nécessitera  $n$  constantes d'intégration qui sont précisément les constantes  $\alpha_i$

#### **L'approche 1 : (conservatif)**

La T.C. est de type  $F_2$  et donc

$$p_i = \frac{\partial S}{\partial q_i}.\tag{3.65}$$

Le but recherché est  $H + \frac{\partial S}{\partial t} = H' = 0$ .

Équation fondamentale après remplacement des  $P_i$  dans  $H$ .

$$H\left(q_i, \frac{\partial S}{\partial q_i}, t\right) + \frac{\partial S(q_i, \alpha_i, t)}{\partial t} = 0.\tag{3.66}$$

Une fois que l'on connaît  $S$ , il ne reste qu'à opérer les T.C.

$$p_i = \frac{\partial S(q_j, \alpha_j, t)}{\partial q_i} = p_i(q_j, \alpha_j, t)\tag{3.67}$$

$$\begin{aligned}
 Q_i &= \beta_i = \frac{\partial S}{\partial P_i} = \frac{\partial S(q_j, \alpha_j, t)}{\partial \alpha_i} \\
 &= Q_i(q_j, \alpha_j, t) = \beta_i.
 \end{aligned}
 \tag{3.68}$$

Ces  $n$  équations peuvent s'inverser en

$$q_i = q_i(\alpha_j, \beta_j, t) \tag{3.69}$$

$$\begin{aligned}
 p_i &= p_i(q_i, \alpha_i, t) = p_i(q_j(\alpha_k, \beta_k, t), \alpha_i, t) \\
 &= p_i(\alpha_l, \beta_l, t).
 \end{aligned}
 \tag{3.70}$$

Par séparation de variables, on écrit :

$$S(q_i, \alpha_i, t) = W(q_i, \alpha_i) - \alpha_1 t \tag{3.71}$$

On calcul :

$$p_i = \frac{\partial S}{\partial q_i} \implies p_i = \frac{\partial W}{\partial q_i} \tag{3.72}$$

L'équation de Hamilton-Jacobi devient :

$$H\left(q_i, \frac{\partial W}{\partial q_i}\right) - \alpha_1 = 0. \tag{3.73}$$

Et on peut écrire la dépendance en  $W$  sur  $q_k$  :

$$W \sim \alpha_k q_k \implies p_k = \frac{\partial S}{\partial q_k} = \frac{\partial W}{\partial q_k} = \alpha_k : \text{constante} \tag{3.74}$$

$$W(q_i, \alpha_i) = \sum_k^{\text{cycliques}} \alpha_k q_k + W'(q_j, \alpha_j) \tag{3.75}$$

Où les  $q_k$  cycliques n'apparaissent pas dans  $W'$ .

## Chapitre 3 : Formalisme de Hamilton

---

### Approche 2 : (conservatif)

Pour un mouvement périodique, il est plus de parler de fréquence ou période constante et donc :

$$\dot{Q}_i = \frac{\partial H'}{\partial P_i} = \omega_i \quad (3.76)$$

$$\dot{P}_i = -\frac{\partial H'}{\partial Q_i} = 0 \quad (3.77)$$

On trouve alors :

$$Q_i(t) = \gamma_i(t) = \omega_i t + \beta_i \quad (\text{dépendance linéaire})$$
$$P_i = \alpha_i = \text{constantes}$$

$$H'(Q_i, P_i) = H(q_i, p_i) + \frac{\partial S(q_i, \alpha_i, t)}{\partial t} = \text{constante.} \quad (3.78)$$

On peut écrire :

$$S(q_i, \alpha_i, t) = W(q_i, \alpha_i) \quad (3.79)$$

$$p_i = \frac{\partial S}{\partial q_i} \implies p_i = \frac{\partial W}{\partial q_i} \quad (3.80)$$

L'équation de Hamilton-Jacobi devient simplement

$$H\left(q_i, \frac{\partial W}{\partial q_i}\right) - \alpha_1 = 0. \quad (3.81)$$

Et on trouve

$$Q_i = \frac{\partial W}{\partial \alpha_i} = \gamma_i(t) = \omega_i t + \beta_i \quad (3.82)$$

### 3.7. L'espace des phases :

-L'espace à 2N dimensions des impulsions en fonction de leurs coordonnées conjuguées est l'espace de phase.

-Pour un système autonome (H ne dépend pas de temps) l'équation des trajectoires dans l'espace de phases est donnée par :

$$H(q, p) = E \quad (3.83)$$

-Une collection d'orbites d'un système est un portrait de phase.

### 3.8. Variables angle-action :

- Dans un système à un degré de liberté effectuant un mouvement périodique, on appelle variables action-angle, note (I ; w), le couple de variables canoniques conjuguées variable action I, coordonnée, w tel que I soit constante et w augmente de  $2\pi$  au cours d'une période, avec :

$$I = \frac{1}{2\pi} \oint \frac{\partial W(q, \alpha)}{\partial q} dq \quad (3.84)$$

avec  $W(q; \alpha)$  solution de l'équation de Hamilton-Jacobi.

$$\begin{aligned} I &= \frac{1}{2\pi} \left[ \int_{q_1}^{q_2} \frac{\partial W(q, \alpha)}{\partial q} dq - \int_{q_2}^{q_1} \frac{\partial W(q, \alpha)}{\partial q} dq \right] \\ &= \frac{1}{\pi} \int_{q_1}^{q_2} \frac{\partial W(q, \alpha)}{\partial q} dq \end{aligned} \quad (3.85)$$

-La méthode des variables action-angles est utile pour calculer la fréquence d'oscillation autour d'un point d'équilibre pour un système dont la solution complète n'est pas connue.

### 3.9. Systèmes intégrables :

Un système à  $n$  degrés de libertés est dit intégrable s'il existe  $n$  intégrales premières indépendantes telles que :

$$\{I_i, I_j\} = 0 \quad \forall i, j = 1, \dots, n \quad (3.86)$$

On dit alors que les intégrales sont en involution.

-Considérons un volume  $V$  de l'espace de phases défini par :

$$V = \int_{\Omega} \prod_i dp_i dq_i \quad \forall i = 1, \dots, n \quad (3.87)$$

-Et avec une transformation passons des coordonnées  $(q_i; p_i)$  à  $(Q_i, P_i)$  et donc au volume  $V'$  défini de manière analogue.

$$V = V' \quad (3.88)$$

**Théorème de Liouville** : Le volume de l'espace de phases est conserve au cours du temps.

---

## Exercices :

### Exercice1 :

- 1- Soit une particule de masse  $m$  se déplaçant en une dimension (disons  $x$ ) et soumise à une force  $\mathbf{F} = -\frac{\partial V}{\partial x}$ . Nous savons que son lagrangien est :  $\mathbf{L} = \frac{m}{2} \dot{x}^2 - V(\mathbf{x})$ 
  - a- Ecrire l'équation du moment de ce système ?
  - b- Prouvez que  $H=T+V$  ?
- 2- Soit une particule de masse  $m$  se déplaçant en trois dimensions sous l'influence d'une force  $\mathbf{F} = -\nabla V(\mathbf{r})$ .
  - a- Déterminer le lagrangien, et l'Hamiltonien de ce système ?
  - b- Etablir les équations canoniques du système ?
  - c- déterminer l'équation de newton ?

## Chapitre 3 : Formalisme de Hamilton

---

### Exercice 2 :

On considère l'Hamiltonien suivant :

$$H = \frac{p_x^2}{2m} + \frac{m\omega^2}{2}x^2.$$

Telle que :

$$x = \sqrt{\frac{2}{m\omega^2}}q \quad \text{et} \quad p_x = \sqrt{2m}p$$
$$q = \sqrt{\frac{m\omega^2}{2}}x \quad \text{et} \quad p = \frac{p_x}{\sqrt{2m}}.$$

1. Ecrire l'Hamiltonien de ce système, Essayes de passer de  $(x, p_x)$  à  $(q,p)$  ?

Indication :  $\frac{\partial F}{\partial t} = 0$

2. Etablir l'équation différentielle du système ?
3. Vérifier que c'est une transformation canonique ?

### Exercice 3 :

Trouver les Hamiltonien correspondant aux lagrangiens suivants :

- 1- pendule en rotation  $L(\theta, \dot{\theta}) = \frac{mR^2}{2}(\dot{\theta}^2 + \omega^2 \sin^2 \theta) + mgR \cos \theta$
- 2- pendule sphérique  $L(\theta, \varphi, \dot{\theta}, \dot{\varphi}) = \frac{mR^2}{2}(\dot{\theta}^2 + \dot{\varphi}^2 \sin^2 \theta) - mgR \cos \theta$
- 3- Système de ressorts  $L(x_1, x_2, \dot{x}_1, \dot{x}_2) = \frac{m}{2}(\dot{x}_2^2 + \dot{x}_1^2) - \frac{k}{2}x_1^2 - \frac{k}{2}x_2^2 - \frac{k}{2}(x_1 - x_2)^2$

### Exercice 4 :

Une particule se déplaçant sur l'axe  $x$ , est soumise a un potentiel  $V(x) = V_0 \sin^2 x$ .

- a) Ecrire l'Hamiltonien de ce système ?
- d- Ecrire l'équation d'Hamilton-Jacobi correspondante et déterminer la forme de la solution ?

### Exercice 5 :

On considère l'Hamiltonien suivant  $H = \frac{1}{2}(p^2 + q^2)$

Telle que  $Q = \frac{1}{\sqrt{2}}(q + ip)$   $P = \frac{1}{\sqrt{2}}(p + iq)$  les nouvelles variables

- 1- Vérifier que c'est une transformation canonique ?
- 2- Ecrire les anciennes variables en fonction des nouvelles ainsi que l'Hamiltonien ?
- 3- Ecrire l'Hamiltonien d'un oscillateur harmonique à une dimension et de masse  $m$  ?
- 4- Ecrire l'équation d'Hamilton-Jacobi correspondante ?

## *Chapitre IV.*

### *Mouvement d'un solide indéformable.*

---

### 4. Introduction :

- **Système** : C'est l'objet ou l'ensemble d'objets que l'on étudie.
- **Système indéformable** : le système est dit indéformable si sa structure n'est pas modifiée au court du temps (c'est-à-dire si la distance qui sépare tous les points de ce solide reste la même au court du temps). (ex : la table)
- **Système déformable** : La distance qui sépare les différents points du système varie. (ex : éponge)
- **Référentiel (ou repère)** : C'est un solide indéformable par rapport auquel on étudie le mouvement du système.

### 4.1. Degrés de liberté d'un solide :

Par définition, les degrés de liberté d'un solide sont ces déplacements élémentaires.

1. Dans l'espace : Il y a six degrés de liberté  $\Rightarrow$  Trois rotations et trois translations.
2. Dans le plan : il y a trois degrés de liberté  $\Rightarrow$  une rotation et deux translations.

### 4.2. Angles d'Euler :

La **Figure 4.1** indique le repère fixe  $OXYZ$  et le repère tournant  $Ox_1x_2x_3$

- la droite  $ON$  qui est la droite de contact entre les plans  $XOY$  et  $x_1Ox_2$ . : **On l'appelle la ligne nodale.**
- L'angle  $\phi$  est l'**angle entre l'axe  $OX$  et cette ligne nodale** suite à une rotation dans le plan  $XOY$ .
- L'angle  $\psi$  est l'angle entre cette même ligne nodale et l'axe  $Ox_1$
- l'angle  $\theta$ , c'est simplement l'angle entre l'axe  $OZ$  et l'axe  $Ox_3$ ,
- les rotations sont représentés par  $\dot{\phi}$  ,  $\dot{\psi}$  et  $\dot{\theta}$  .



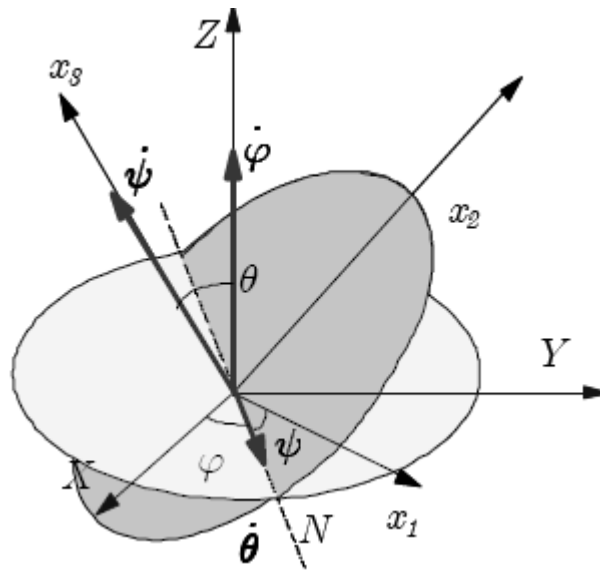


Figure .4.1

$$\dot{\theta}_1 = \dot{\theta} \cos \psi; \quad \dot{\theta}_2 = -\dot{\theta} \sin \psi; \quad \dot{\theta}_3 = 0 \quad (4.1)$$

$$\dot{\phi}_1 = \dot{\phi} \sin \theta \sin \psi; \quad \dot{\phi}_2 = \dot{\phi} \sin \theta \cos \psi; \quad \dot{\phi}_3 = \dot{\phi} \cos \theta \quad (4.2)$$

$$\dot{\psi}_1 = 0; \quad \dot{\psi}_2 = 0; \quad \dot{\psi}_3 = \dot{\psi} \quad (4.3)$$

Les composantes  $\Omega_1$ ,  $\Omega_2$ , et  $\Omega_3$  de  $\Omega$  sont simplement les sommes des composantes respectives. Par exemple

$$\Omega_i = \dot{\theta}_i + \dot{\phi}_i + \dot{\psi}_i, \quad (4.4)$$

$$\begin{aligned} \Omega_1 &= \dot{\theta} \cos \psi + \dot{\phi} \sin \theta \sin \psi \\ \Omega_2 &= -\dot{\theta} \sin \psi + \dot{\phi} \sin \theta \cos \psi \\ \Omega_3 &= \dot{\phi} \cos \theta + \dot{\psi}. \end{aligned} \quad (4.5)$$

### 4.3. Axes principaux, Moment cinétique et tenseur d'inertie :

- Les axes propres, ou axes principaux, d'un solide sont les directions qui diagonalisent le tenseur d'inertie.

## Chapitre 4 : Mouvement d'un solide indéformable

- Ces axes correspondent aux axes de symétrie du solide et sont caractérisés par leur base unitaire notée  $(\vec{e}_1, \vec{e}_2, \vec{e}_3)$ .
- Le solide est considéré comme un système de points discrets notés  $A_\alpha$ . Le moment cinétique total dans un référentiel mobile, s'écrit :

$$\vec{L}_{/G} = \sum_{\alpha} \left( \overrightarrow{GA}_{\alpha} \wedge m_{\alpha} \dot{\overrightarrow{GA}}_{\alpha} \right) = \sum_{\alpha} m_{\alpha} \overrightarrow{GA}_{\alpha} \wedge \left( \vec{\Omega} \wedge \overrightarrow{GA}_{\alpha} \right) \quad (4.6)$$

Où les rotations sont prises en compte dans l'expression des vitesses.

Si le double produit vectoriel est développé selon la formule :

$$\vec{A} \wedge (\vec{B} \wedge \vec{C}) = (\vec{A} \cdot \vec{C}) \cdot \vec{B} - (\vec{A} \cdot \vec{B}) \cdot \vec{C} \quad (4.7)$$

- l'expression finale du moment cinétique peut être posée selon la forme simplifiée suivante :

$$\vec{L}_{/G} = \sum_{\alpha} m_{\alpha} \overrightarrow{GA}_{\alpha} \wedge (\vec{\Omega} \wedge \overrightarrow{GA}_{\alpha}) = \sum_{\alpha} \left[ \overrightarrow{GA}_{\alpha}^2 \cdot \vec{\Omega} - \overrightarrow{GA}_{\alpha} (\overrightarrow{GA}_{\alpha} \cdot \vec{\Omega}) \right] \quad (4.8)$$

- Le vecteur rotation est alors projetée :

$$\vec{\Omega} = \Omega_x \vec{e}_x + \Omega_y \vec{e}_y + \Omega_z \vec{e}_z \quad (4.9)$$

- et la position de chaque point exprimée selon

$$\overrightarrow{GA}_{\alpha} = x_{\alpha} \vec{e}_x + y_{\alpha} \vec{e}_y + z_{\alpha} \vec{e}_z. \quad (4.10)$$

L'évaluation de chacun des termes du moment cinétique devient alors systématique.

- L'expression du moment cinétique en fonction de la vitesse angulaire est linéaire :

$$\vec{L}_{/G} = \mathfrak{J}_{/G} \cdot \vec{\Omega} \quad (4.11)$$

- La forme tensorielle s'écrit selon la forme générale suivante et cela quel que soit le centre :

$$\mathfrak{J} = \begin{pmatrix} l_{xx} & -l_{xy} & -l_{xz} \\ -l_{yx} & l_{yy} & -l_{yz} \\ -l_{zx} & -l_{zy} & l_{zz} \end{pmatrix} \quad (4.12)$$

\*Les termes diagonaux sont les moments d'inertie par rapport aux axes :

$$l_{xx} = \sum_{\alpha} m_{\alpha} (z_{\alpha}^2 + y_{\alpha}^2) \quad ; \quad l_{yy} = \sum_{\alpha} m_{\alpha} (x_{\alpha}^2 + z_{\alpha}^2) \quad ; \quad l_{zz} = \sum_{\alpha} m_{\alpha} (x_{\alpha}^2 + y_{\alpha}^2)$$

\*Les termes non diagonaux sont tels que :

$$l_{xy,yx} = \sum_{\alpha} m_{\alpha} x_{\alpha} y_{\alpha} \quad ; \quad l_{zy,yz} = \sum_{\alpha} m_{\alpha} y_{\alpha} z_{\alpha} \quad ; \quad l_{xz,zx} = \sum_{\alpha} m_{\alpha} x_{\alpha} z_{\alpha}$$

#### 4.4. Energie cinétique :

- Dans le cas général où C est un point quelconque du solide, le calcul complet conserve les trois contributions :

$$\varepsilon_K = \frac{1}{2} m_{\text{totale}} \vec{V}_C^2 + \vec{V}_C \cdot \left( \vec{\Omega} \wedge \left[ \sum_{\alpha} m_{\alpha} \vec{CA}_{\alpha} \right] \right) + \frac{1}{2} \sum_{\alpha} m_{\alpha} \left( \vec{\Omega} \wedge \vec{CA}_{\alpha} \right)^2 \quad (4.13)$$

- Une autre façon d'écrire l'énergie cinétique pour un point C quelconque paraît sous la forme :

$$\varepsilon_K = \frac{1}{2} m_{\text{totale}} V_C^2 + m_{\text{totale}} \vec{\Omega} \cdot \left( \vec{CG} \wedge \vec{V}_C \right) + \frac{1}{2} \sum_{\alpha} m_{\alpha} \left( \vec{\Omega} \wedge \vec{CA}_{\alpha} \right)^2 \quad (4.14)$$

- L'énergie cinétique de rotation

$$\varepsilon_{K,\text{rot./C}} = \frac{1}{2} \vec{\Omega} \cdot \vec{L}_C = \frac{1}{2} \vec{\Omega} \cdot \left( \mathfrak{J}_C \cdot \vec{\Omega} \right) = \frac{1}{2} \mathfrak{J}_{C,ik} \Omega_i \Omega_k \quad (4.15)$$

#### 4.5. Toupie symétrique :

Le solide ayant trois axes principaux ou axes propres, les relations entre les moments d'inertie définissent les différents types de toupies.

- Le cas général, tel que  $I_1 \neq I_2 \neq I_3$ , indique une **toupie asymétrique**.
- La **toupie symétrique** est un solide pour lequel  $I_1 = I_2 = I$  et  $I_3 \neq I$ .
- La **sphère** est une toupie symétrique particulière pour laquelle  $I_3 = I$ .

## Chapitre 4 : Mouvement d'un solide indéformable

---

- Le **rotateur** est un système de particules distribuées le long d'une droite : par exemple  $x_3$ , auquel cas  $I_1=I_2$  et  $I_3=0$ .

### 4.6. Équations d'Euler.

Exprimé dans le référentiel mobile  $C_{x_1x_2x_3}$ , le moment cinétique est déterminé par ses trois composantes :

$$L_1 = I_1\Omega_1, L_2 = I_2\Omega_2 \text{ et } L_3 = I_3\Omega_3. \quad (4.16)$$

Il vérifie les **équations d'Euler** suivantes :

$$I_1 \frac{d\Omega_1}{dt} + (I_3 - I_2) \Omega_2 \Omega_3 = M_1 \quad (4.17)$$

$$I_2 \frac{d\Omega_2}{dt} + (I_1 - I_3) \Omega_3 \Omega_1 = M_2 \quad (4.18)$$

$$I_3 \frac{d\Omega_3}{dt} + (I_2 - I_1) \Omega_1 \Omega_2 = M_3 \quad (4.19)$$

**Exercices :**

**Exercice N°1:**

On considère un cube de côtés  $O_1A = O_1B = O_1C = 1$ , en mouvement par rapport à un repère orthonormé direct fixe,  $R(O, x, y, z)$ . A tout instant, les projections des vecteurs vitesses des points A, B et C sont telles que :

$$\vec{v}(A/R) \cdot \vec{O_1B} = 2\omega \text{ et } \vec{v}(A/R) \cdot \vec{O_1C} = \omega$$

$$\vec{v}(B/R) \cdot \vec{O_1A} = \omega \text{ et } \vec{v}(B/R) \cdot \vec{O_1C} = 0$$

$$\vec{v}(C/R) \cdot \vec{O_1A} = \omega \text{ et } \vec{v}(C/R) \cdot \vec{O_1B} = \omega$$

Soit  $R_1(O_1, \vec{i}_1, \vec{j}_1, \vec{k}_1)$  un repère lié au cube dans son mouvement par rapport à R avec  $\vec{i}_1 = \vec{O_1A}$ ,  $\vec{j}_1 = \vec{O_1B}$  et  $\vec{k}_1 = \vec{O_1C}$  (voir figure 1).

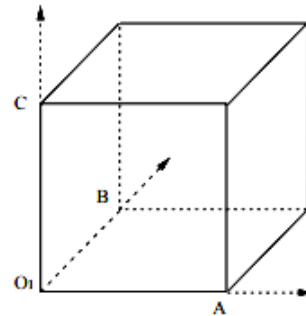


Figure 1

- 1- Déterminer dans R, les vecteurs vitesses des points A, B et C. En déduire le vecteur  $\vec{\Omega}(S/R)$  qui caractérise la rotation instantanée du cube par rapport à R.
- 2- Déterminer le vecteur rotation instantané  $\vec{\Omega}(S/R)$  du cube par rapport à R. En déduire les vecteurs vitesses des points A, B et C.
- 3- Déterminer la vitesse du point  $O_1$  par rapport à R,  $\vec{v}(O_1/R)$ .
- 4- Déterminer l'invariant scalaire I du torseur cinématique.

**Exercice N°2:**

Un cerceau (C) de centre A et de rayon  $a$ , dont le plan est perpendiculaire à  $x_0Oy_0$ , roule sans glisser sur le plan horizontal (P). L'axe du cerceau reste parallèle à l'axe  $(OI_G)$  et le point de contact  $I_G$  décrit un cercle de rayon R avec une vitesse angulaire  $\omega$  constante (figure 2). L'angle variable  $\theta$  caractérise la rotation propre du cerceau autour de son axe. On désigne par  $R_0(O, x_0, y_0, z_0)$  le repère fixe,  $R_1(O, \vec{u}, \vec{v}, \vec{k}_0)$  un repère intermédiaire et par  $R(O, x, y, z)$  le repère lié à (P). On suppose que le plan (P) est fixe dans  $R_0$ . Soient  $I_1, I_2$  et  $I_G$  les points de contact entre le cerceau et le plan (P) tels que  $I_1 \in (C), I_2 \in (P)$  et  $I_G$  point géométrique.

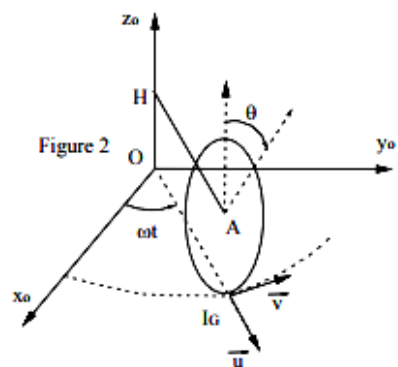


Figure 2

- 1- Calculer la vitesse  $\vec{v}(A/R_0)$  et l'accélération  $\vec{\gamma}(A/R_0)$  du point A dans  $R_0$ .
- 2- Quel est le vecteur instantané de rotation  $\vec{\Omega}(C/R_0)$ .
- 3- Donner les éléments de réduction du torseur cinématique en A. En déduire sa nature.
- 4- Calculer la vitesse  $\vec{v}(I_1/R_0)$ . En déduire la condition du roulement sans glissement.

---

## Types de document et références bibliographiques

**Ce document pédagogique couvre une partie de ce qui est traité dans les volumes suivants.**

1. *M.Bouriche, mécanique des systèmes de solide indéformable. 2ème édition 2014.*
2. *Jonathan Ferreira. Cours de Mécanique Analytique. Laboratoire d'AstrOphysique de Grenoble <http://www-laog.obs.ujf-grenoble.fr/ferreira>.*
3. *Introduction au principe variationnel et à la mécanique analytique. Nicolas Sator. Laboratoire de Physique Theorique de la Matiere Condensee Universite Pierre et Marie Curie Paris 6.*
4. *Olivier Castera.La mécanique analytique. E-mail address: [o.castera@free.fr](mailto:o.castera@free.fr) URL: <http://o.castera.free.fr/>*
5. *P.Amiot et L.Marleau. Mécanique classique II .université laval. canada.*
6. *Ch. Duval.Decembre 2008Mecanique du solide et Mecanique analytique. Departement de Physique, Universite de la Mediterranee & CPT-CNRS, Luminy,Case 907, F{13288 Marseille, Cedex 9, FRANCE; mailto : [duval@cpt.univ-mrs.fr](mailto:duval@cpt.univ-mrs.fr).*
7. *MHIRECH Abdelaziz.Professeur à L'Université Mohamed V.Faculté des Sciences – Rabat – Agdal.Cours de mecanique du point materiel. Pour le premier semestre des filieres SM et SMI.*
8. *Resume du cours de Mecanique Analytique.jean-eloi.lombard@ep.ch. 22 janvier 2009.*
9. *Hassina ZEGHLACHE. - Université de Lille. Date : 18 AOUT 2012. Éléments de mécanique du solide [ en ligne ]. Disponible sur : [http://res-nlp.univ-lemans.fr/NLP\\_C\\_M02\\_G01/co/NLP\\_C\\_M02\\_G01\\_web.html](http://res-nlp.univ-lemans.fr/NLP_C_M02_G01/co/NLP_C_M02_G01_web.html)*
10. *Principe de moindre action et formalisme lagrangien. [http://ob\\_379aa4\\_12-principe-de-moindre-action-et-formalisme-lagra](http://ob_379aa4_12-principe-de-moindre-action-et-formalisme-lagra).*
11. *Chapitre 1 : Oscillateur harmonique.2090375\_C01\_BAT.indd 10 date 09/08/13*